



□を使った式 8

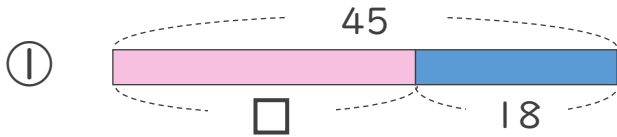
● 数-□の□を
もとめる計算



日にち： 月 日

名まえ _____

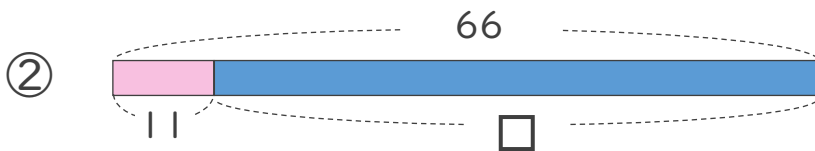
・ □にあてはまる数をもとめましょう。(うすい字はなぞりましょう)



$$45 - \square = 18$$

$$\square = 45 - 18$$

$$\square = 27$$



$$66 - \square = 11$$

$$\square = 66 - 11$$

$$\square =$$



□を使った式 8

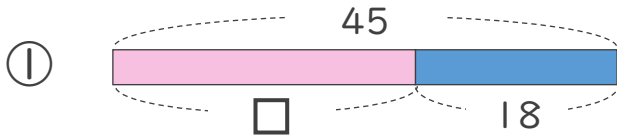
● 数-□の□を
もとめる計算



日にち： 月 日

名まえ _____

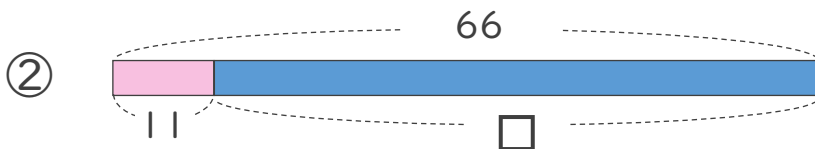
- にあてはまる数をもとめましょう。(うすい字はなぞりましょう)



$$45 - \square = 18$$

$$\square = 45 - 18$$

$$\square = 27$$



$$66 - \square = 11$$

$$\square = 66 - 11$$

$$\square = 55$$

