



時ごとと時間の もとめかた 8

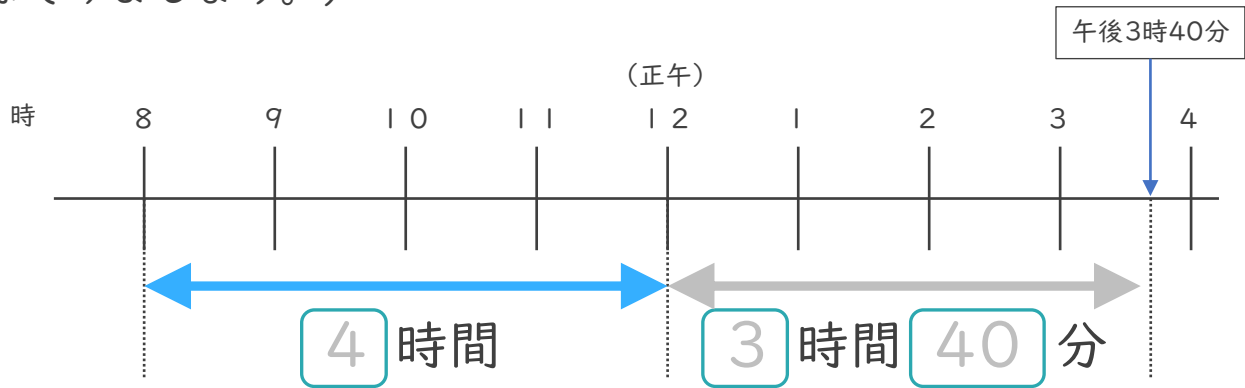
◎ 正午をはさむ計算



日にち： 月 日

名まえ _____

1 午前8時から午後3時40分までの時間をもとめます。(うすい字はなぞりましょう。)

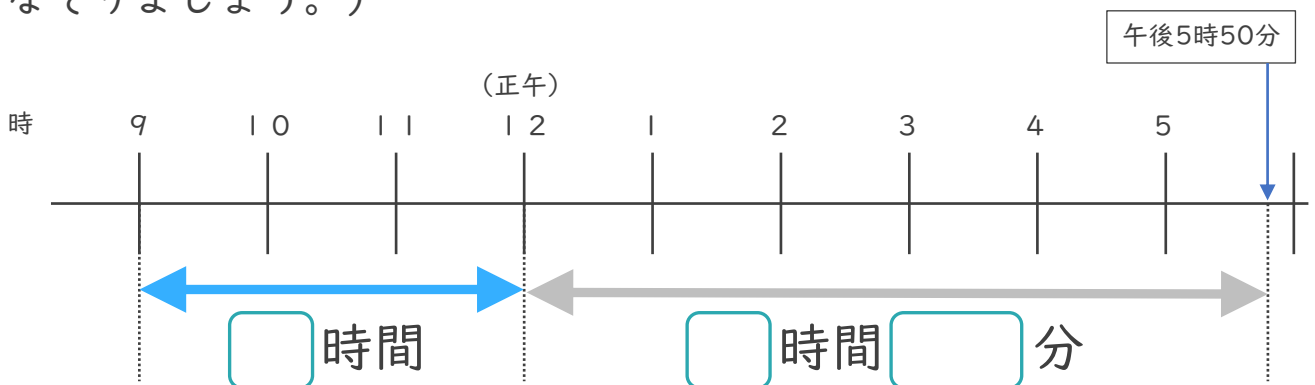


① にあてはまる数を書きましょう。

② 午前8時から午後3時40分までの時間は何時間何分ですか。

答え (7 時間 3 0 分)

2 午前9時から午後5時50分までの時間をもとめます。(うすい字はなぞりましょう。)



① にあてはまる数を書きましょう。

② 午前9時から午後5時50分までの時間は何時間何分ですか。

答え (時間 分)





時こくと時間の もとめかた 8

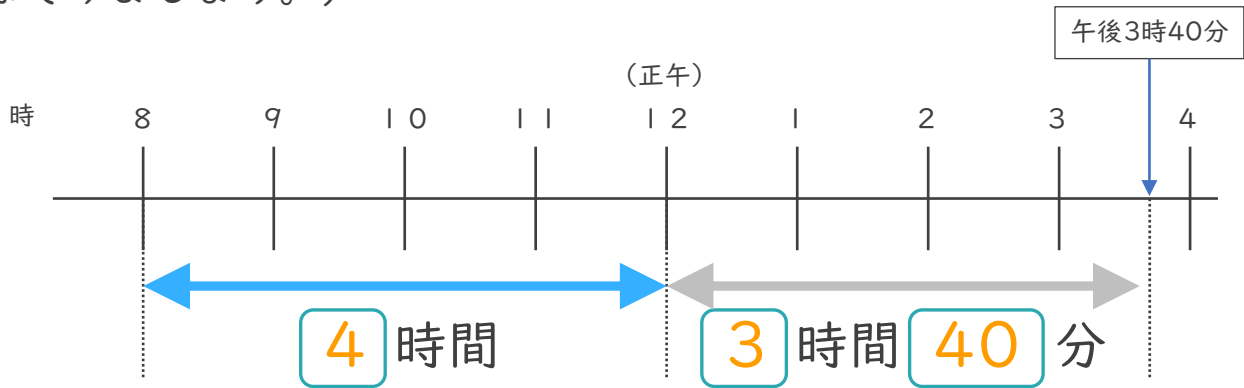
◎ 正午をはさむ計算



日にち： 月 日

名まえ _____

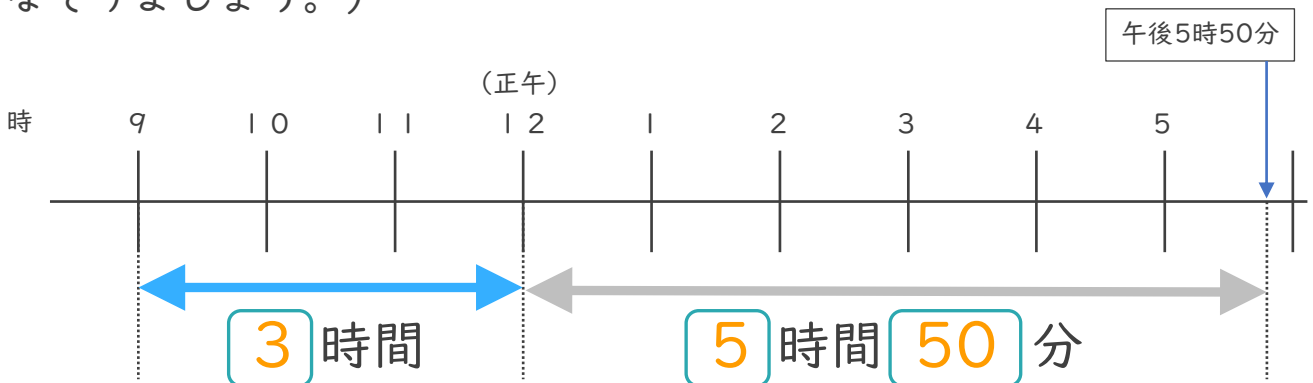
- 1 午前8時から午後3時40分までの時間をもとめます。(うすい字はなぞりましょう。)



- ① にあてはまる数を書きましょう。
- ② 午前8時から午後3時40分までの時間は何時間何分ですか。

答え (7 時間 3 0 分)

- 2 午前9時から午後5時50分までの時間をもとめます。(うすい字はなぞりましょう。)



- ① にあてはまる数を書きましょう。
- ② 午前9時から午後5時50分までの時間は何時間何分ですか。

答え (8 時間 5 0 分)

