



# 時こくと時間の もとめかた 8

● 正午をはさむ計算

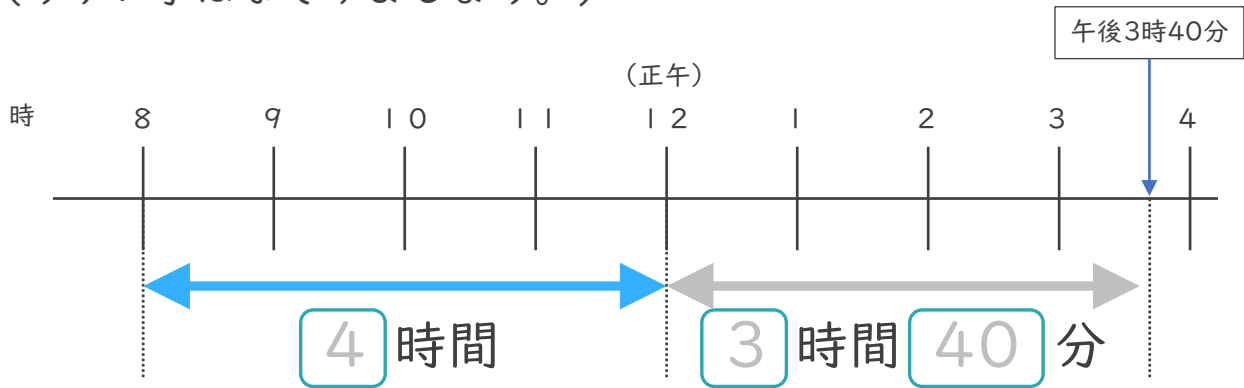


日にち： 月 日

名まえ \_\_\_\_\_

1 午前8時から午後3時40分までの時間をもとめます。

(うすい字はなぞりましょう。)



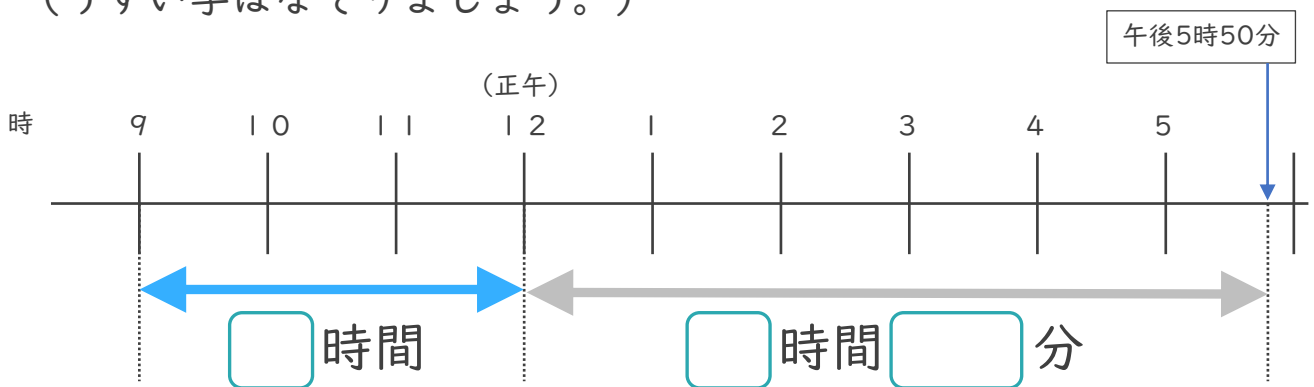
①  にあてはまる数を書きましょう。

② 午前8時から午後3時40分までの時間は何時間何分ですか。

答え ( 7 時間 4 0 分 )

2 午前9時から午後5時50分までの時間をもとめます。

(うすい字はなぞりましょう。)



①  にあてはまる数を書きましょう。

② 午前9時から午後5時50分までの時間は何時間何分ですか。

答え ( 時間 分 )





# 時こくと時間の もとめかた 8

◎ 正午をはさむ計算

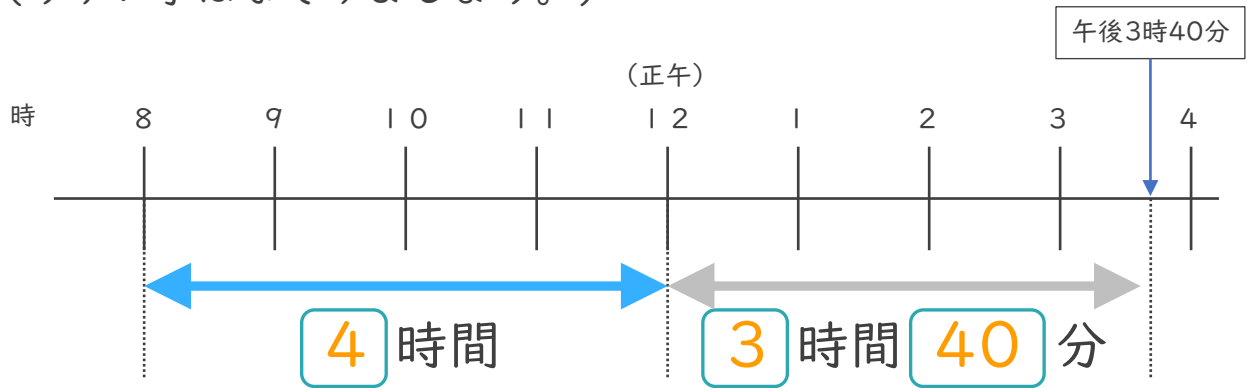


日にち： 月 日

名まえ \_\_\_\_\_

1 午前8時から午後3時40分までの時間をもとめます。

(うすい字はなぞりましょう。)



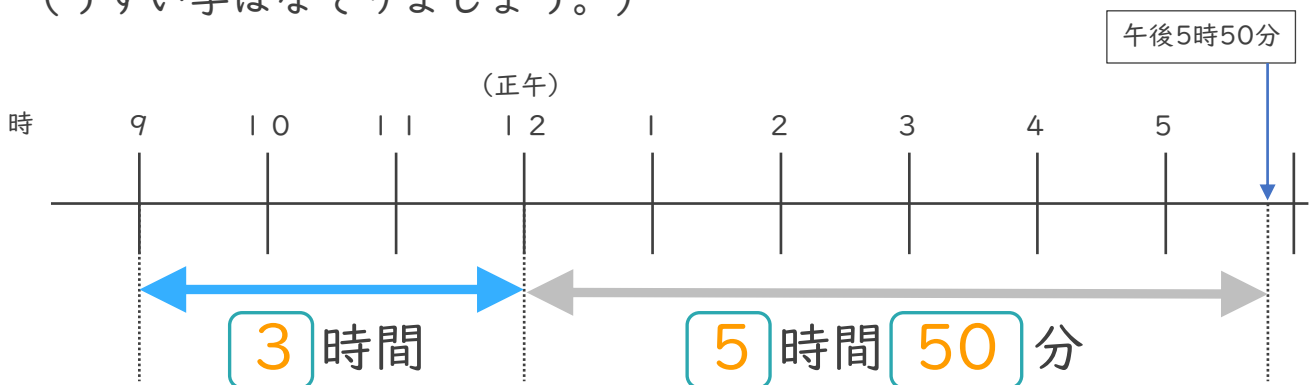
①  にあてはまる数を書きましょう。

② 午前8時から午後3時40分までの時間は何時間何分ですか。

答え ( **7 時間 40 分** )

2 午前9時から午後5時50分までの時間をもとめます。

(うすい字はなぞりましょう。)



①  にあてはまる数を書きましょう。

② 午前9時から午後5時50分までの時間は何時間何分ですか。

答え ( **8 時間 50 分** )

