



# 円と球 9

● 球の中心・半径・直径とは

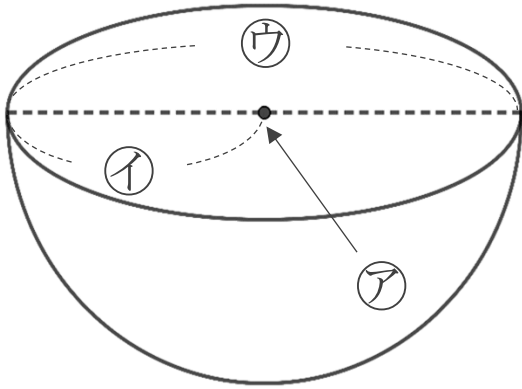


日にち：            月            日

名まえ \_\_\_\_\_

・ 次の図は球を半分に切った図です。㉠～㉣の名前を答えましょう。  
(うすい字は、なぞりましょう。)

①

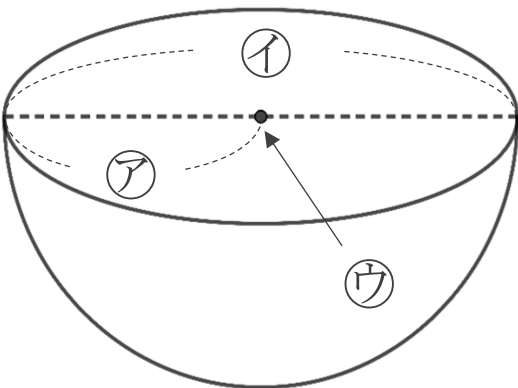


㉠ : 中心

㉡ : 半径

㉣ : 直径

②



㉠ :

㉡ :

㉣ :





# 円と球 9

● 球の中心・半径・直径とは

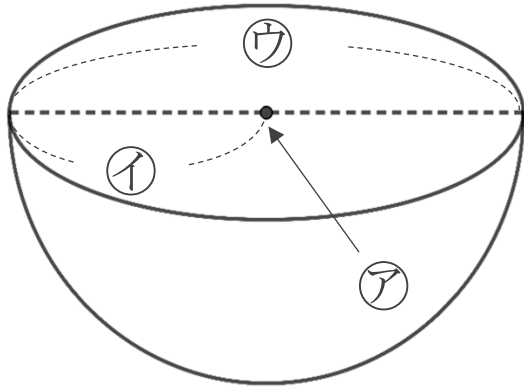


日にち：            月            日

名まえ \_\_\_\_\_

・ 次の図は球を半分に切った図です。㉠～㉣の名前を答えましょう。  
(うすい字は、なぞりましょう。)

①

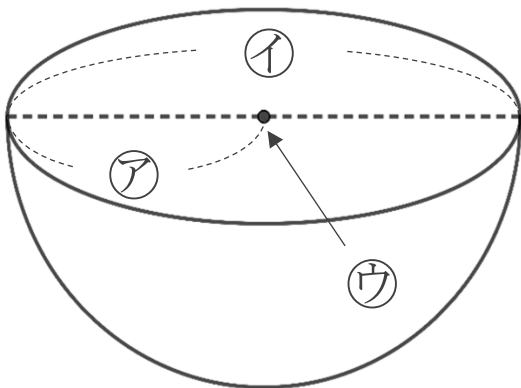


㉠ : 中心

㉡ : 半径

㉣ : 直径

②



㉠ : 半径

㉡ : 直径

㉣ : 中心

