



# 三角形と角 10

● 角を大きい  
じゅんにならべる

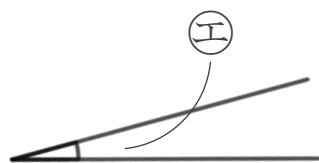
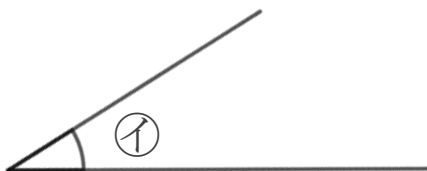
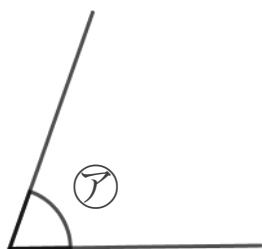


日にち：          月          日

名まえ \_\_\_\_\_

1 次の角の大きさをくらべて、大きいじゅんに書きましょう。

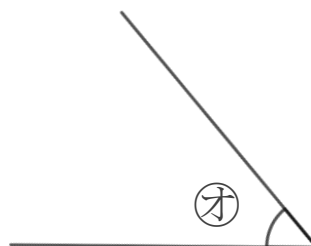
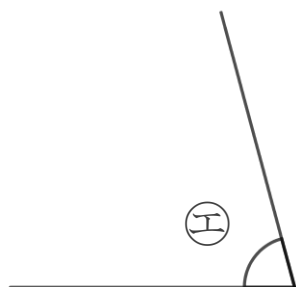
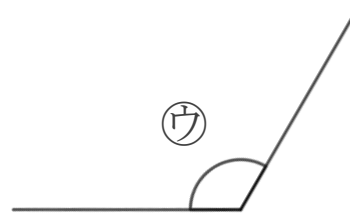
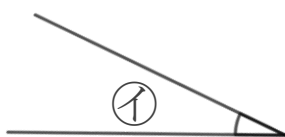
(うすい字はなぞりましょう。)



答え：          →    (ウ)    →    (ア)    →    (イ)    →

2 次の角の大きさをくらべて、小さいじゅんに書きましょう。

(うすい字はなぞりましょう。)



答え：          →    (オ)    →    (エ)    →          →





# 三角形と角 10

● 角を大きい  
じゅんにならべる

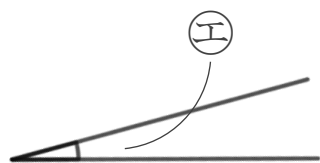
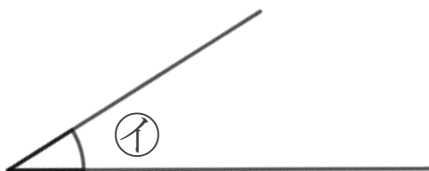
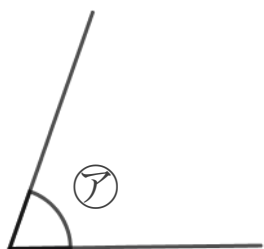


日にち：            月            日

名まえ \_\_\_\_\_

1 次の角の大きさをくらべて、大きいじゅんに書きましょう。

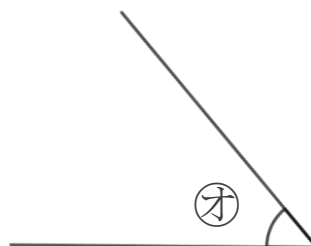
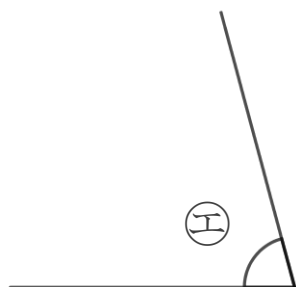
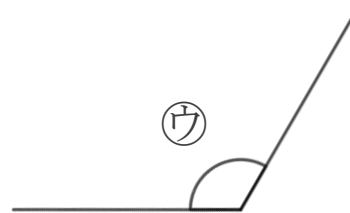
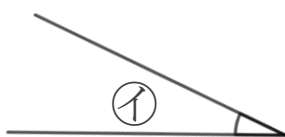

(うすい字はなぞりましょう。)



答え：    **オ** → **ウ** → **ア** → **イ** → **エ**

2 次の角の大きさをくらべて、小さいじゅんに書きましょう。

(うすい字はなぞりましょう。)



答え：    **イ** → **オ** → **エ** → **ア** → **ウ**

