

# 重さのたんいと はかりかた 2


◎ 重り何こ分？



日にち：            月            日

名まえ \_\_\_\_\_

- ・いろいろなものの重さを、おもりを使って表します。  
(うすい字はなぞりましょう。)



① のりとはさみはどちらの方が重いですか。


のりは、おもり  こ分

はさみは、おもり  こ分

答え： はさみ

② はさみはのりより、おもり何こ分重いといえますか。

答え： 1 こ



# 重さのたんいと はかりかた 2


◎ 重り何こ分？



日にち：            月            日

名まえ \_\_\_\_\_

- ・いろいろなものの重さを、おもりを使って表します。  
(うすい字はなぞりましょう。)



① のりとはさみはどちらの方が重いですか。

のりは、おもり **2** こ分

はさみは、おもり **3** こ分

答え： はさみ

② はさみはのりより、おもり何こ分重いといえますか。

答え： 1 こ

