



# 分数 8

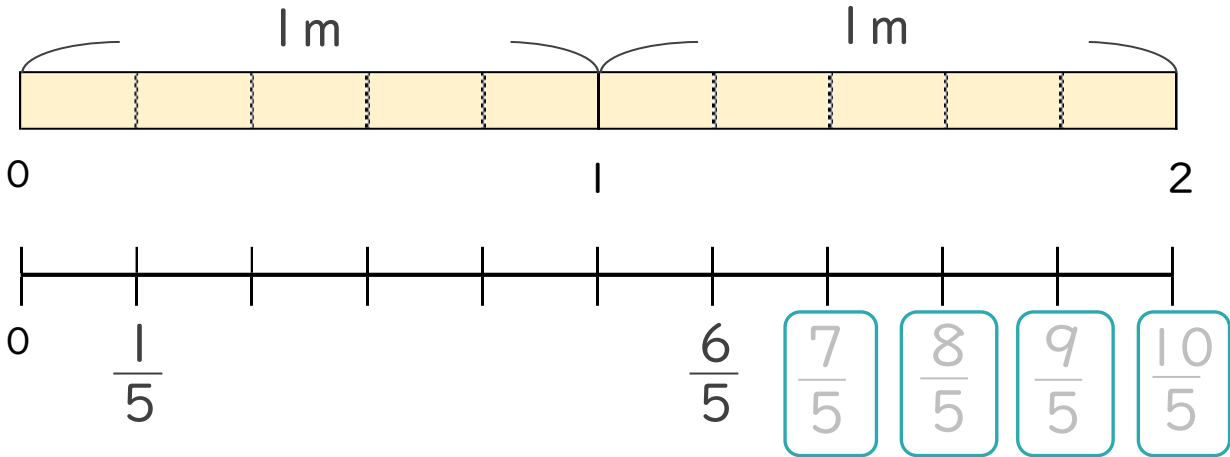
● 1より大きい分数を数直線に表す



日にち： 月 日

名まえ \_\_\_\_\_

1 次の図を見て答えましょう。(うすい字はなぞりましょう。)



①  にあてはまる分数を書きましょう。

②  $\frac{1}{5}$  mの10こ分の長さは何mですか。

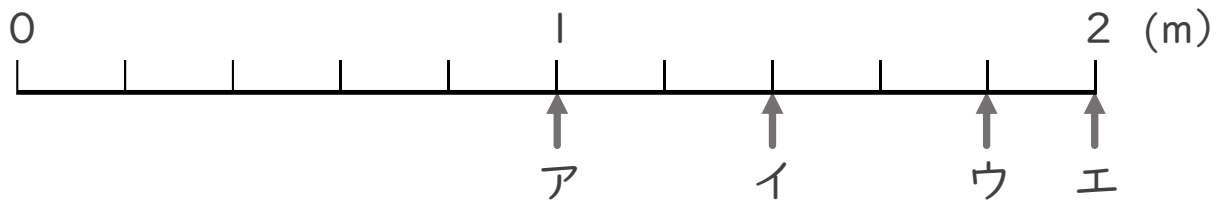
整数 2 m

分数と整数でそれぞれ表しましょう。

分数  $\frac{10}{5}$  m

2 ア～エのめもりが表す長さは、それぞれ何mですか。

(うすい字はなぞりましょう。)



答え    ア    1 m    イ     $\frac{7}{5}$  m    ウ             m    エ             m





# 分数 8

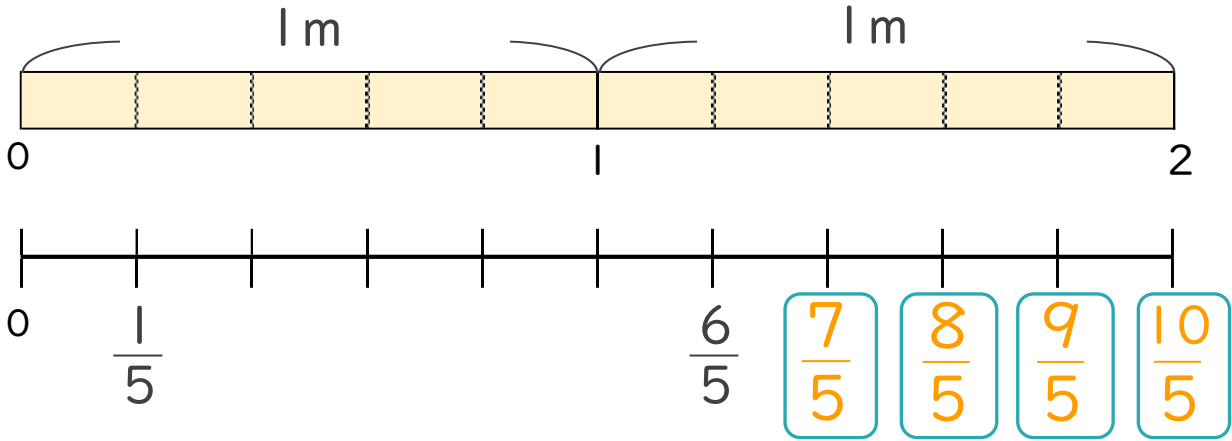
● 1より大きい分数を数直線に表す



日にち： 月 日

名まえ \_\_\_\_\_

1 次の図を見て答えましょう。(うすい字はなぞりましょう。)



①  にあてはまる分数を書きましょう。

②  $\frac{1}{5}$  mの10こ分の長さは何mですか。

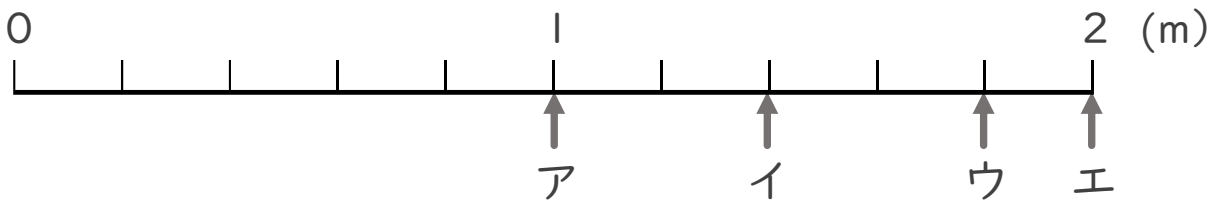
整数 2 m

分数と整数でそれぞれ表しましょう。

分数  $\frac{10}{5}$  m

2 ア～エのめもりが表す長さは、それぞれ何mですか。

(うすい字はなぞりましょう。)



答え    ア    1 m    イ     $\frac{7}{5}$  m    ウ     $\frac{9}{5}$  m    エ    2 m

