



分数 7

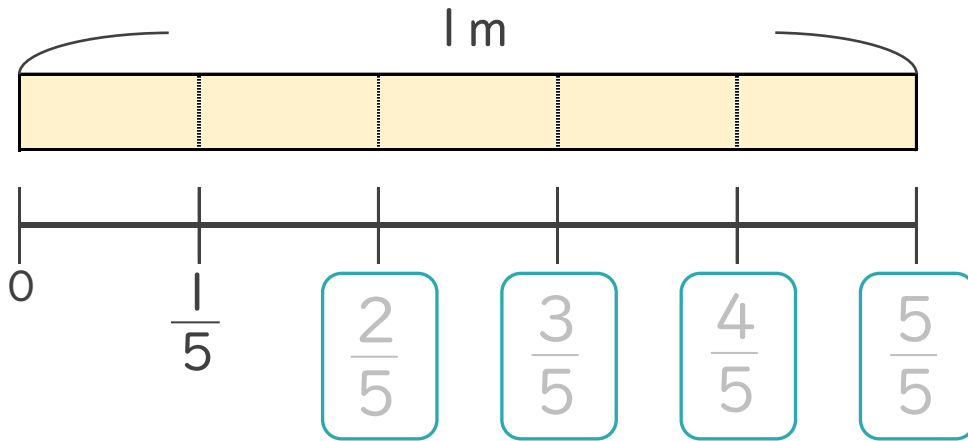
● 1より小さい分数を
数直線に表す



日にち： 月 日

名まえ _____

1 次の図を見て答えましょう。(うすい字はなぞりましょう。)

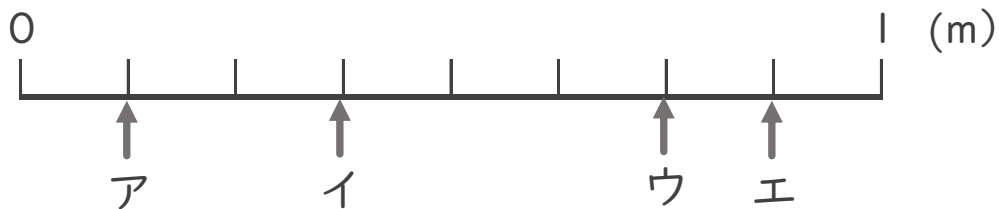


① にあてはまる分数を書きましょう。

② $\frac{1}{5}$ mの5こ分の長さは何mですか。 m

2 ア～エのめもりが表す長さは、それぞれ何mですか。

(うすい字はなぞりましょう。)



答え ア $\frac{1}{8}$ m イ m ウ m エ m



分数 7

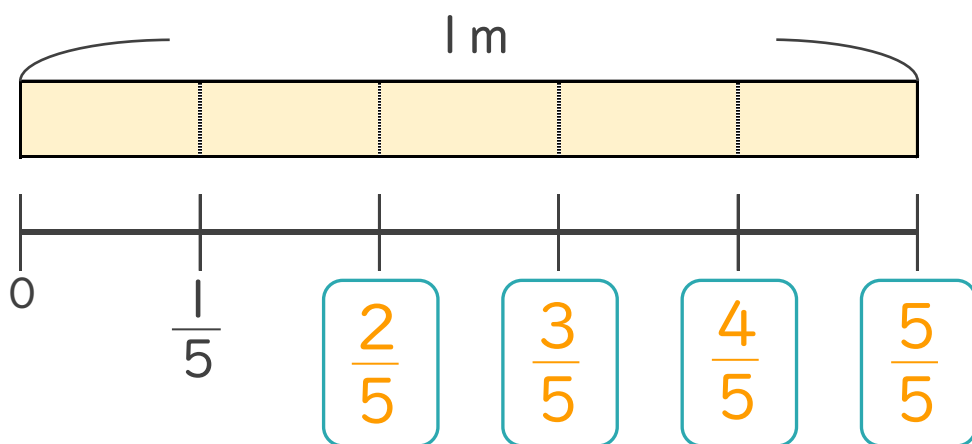
1より小さい分数を
数直線に表す



日にち： 月 日

名まえ _____

1 次の図を見て答えましょう。(うすい字はなぞりましょう。)

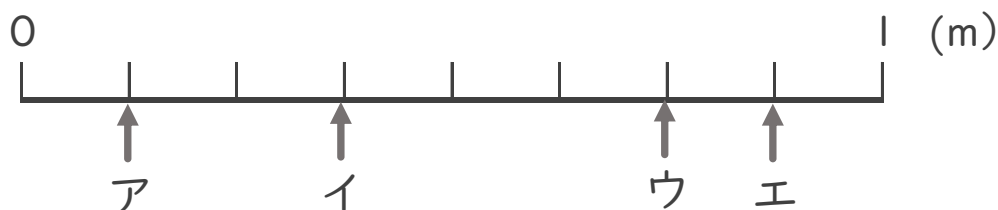


① にあてはまる分数を書きましょう。

② $\frac{1}{5}$ mの5こ分の長さは何mですか。 m

2 ア～エのめもりが表す長さは、それぞれ何mですか。

(うすい字はなぞりましょう。)



答え ア $\frac{1}{8}$ m イ $\frac{3}{8}$ m ウ $\frac{6}{8}$ m エ $\frac{7}{8}$ m