



大きい数のしくみ 9

● 1万の位の数直線



日にち： 月 日

名まえ _____

すうちよくせん

1 下ののような数の線を数直線とといいます。

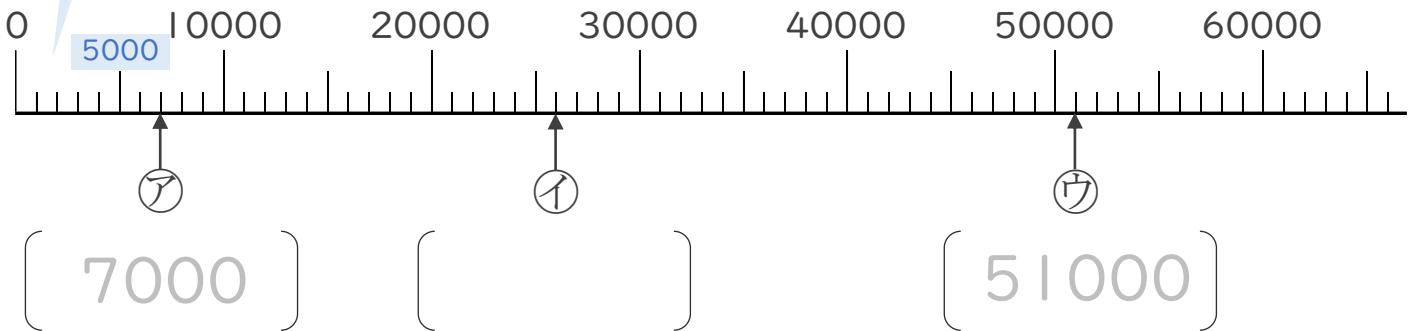
ア、イ、ウのめもりが表している数を〔 〕に書きましょう。

(うすい字はなぞりましょう。)

☆いちばん小さい1めもりはいくつ？

0と10000の間が10こに分かれているから、

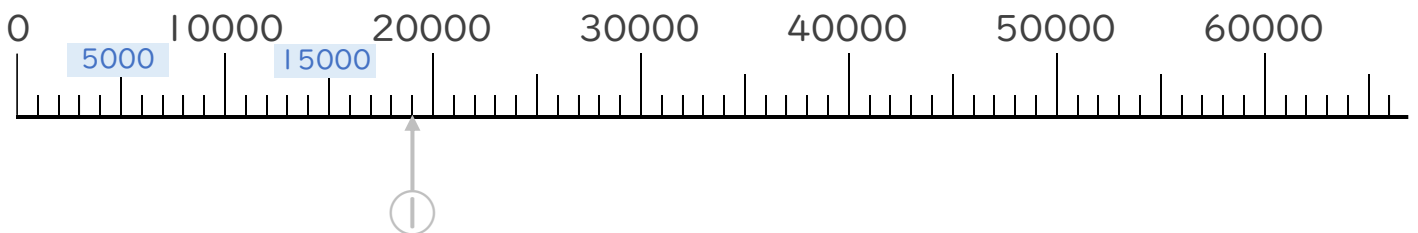
いちばん小さい1めもりは 1000 だね！



2 次の数を表すめもりに、↑を書きましょう。

(うすい字はなぞりましょう。)

- ① 19000 ② 42000





大きい数のしくみ 9

● 1万の位の数直線



日にち： 月 日

名まえ _____

すうちよくせん

1 下ののような数の線を数直線とといいます。

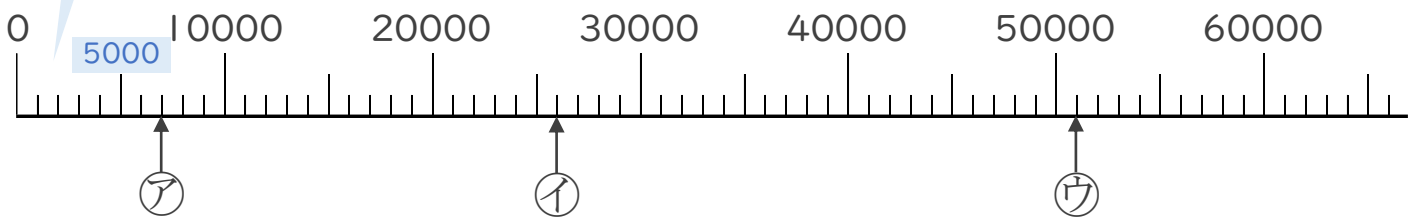
ア、イ、ウのめもりが表している数を〔 〕に書きましょう。

(うすい字はなぞりましょう。)

☆いちばん小さい1めもりはいくつ？

0と10000の間が10こに分かれているから、

いちばん小さい1めもりは **1000** だね！



〔 **7000** 〕

〔 **26000** 〕

〔 **51000** 〕

2 次の数を表すめもりに、↑を書きましょう。

(うすい字はなぞりましょう。)

① 19000 ② 42000

