



大きい数のわり算 3

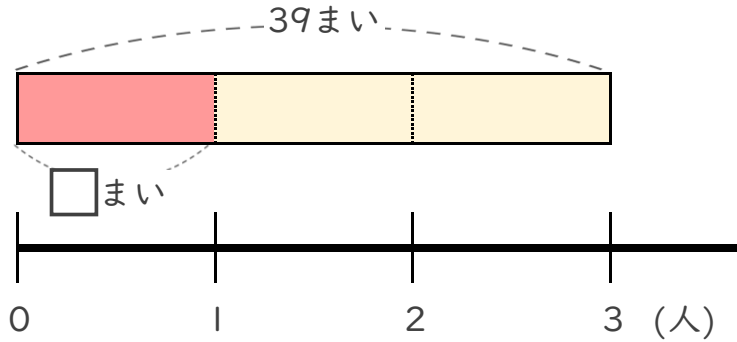
◎ 39まいのおり紙を
3人でわける



日にち： 月 日

名まえ _____

- ・ 39まいのおり紙を、3人で同じ数ずつ分けます。
1人分は何まいになりますか。
(うすい字はなぞりましょう。)

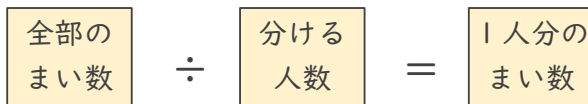
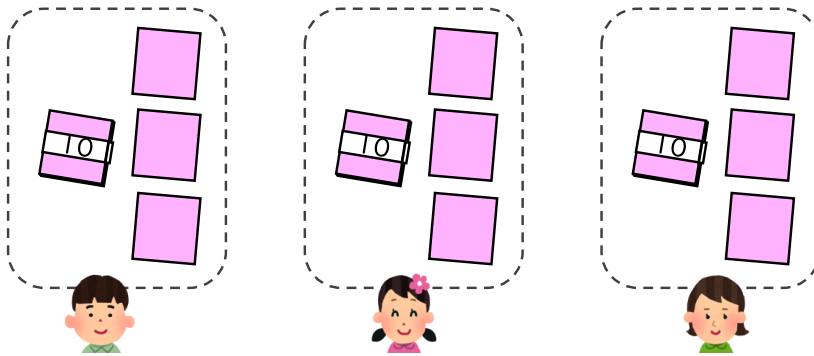


① 計算の式を書きましょう。

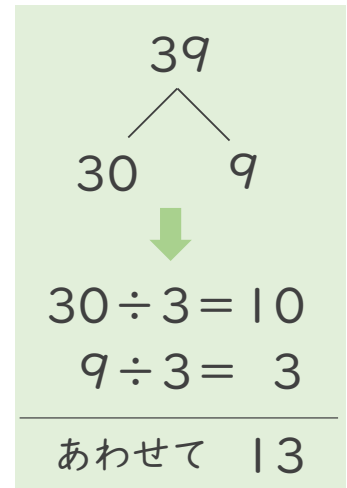


式 _____

② 下の図をもとに計算してみましょう。



式: $39 \div 3 =$



答え _____ まい



大きい数のわり算 3

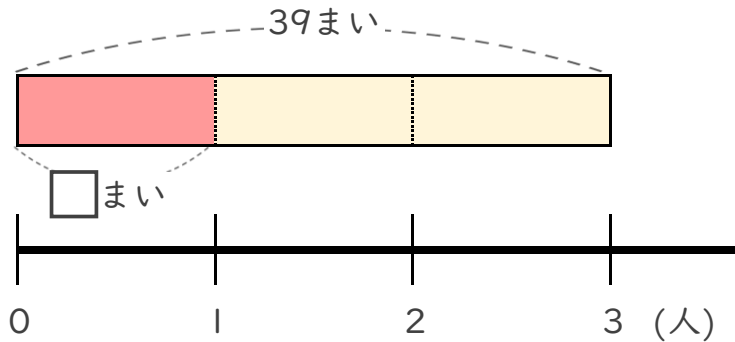
◎ 39まいのおり紙を
3人でわける



日にち： 月 日

名まえ _____

- ・ 39まいのおり紙を、3人で同じ数ずつ分けます。
1人分は何まいになりますか。
(うすい字はなぞりましょう。)

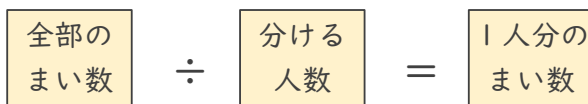
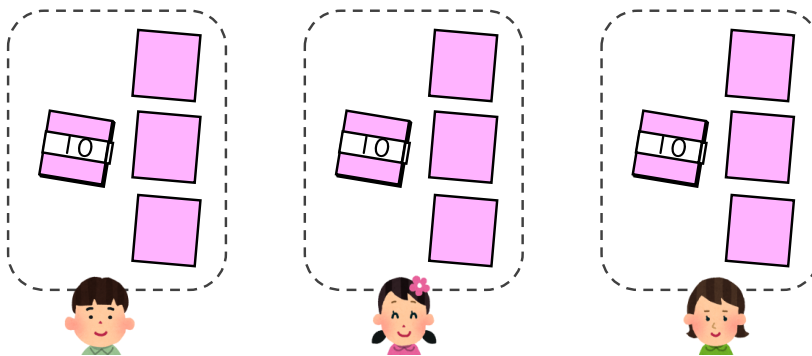


① 計算の式を書きましょう。

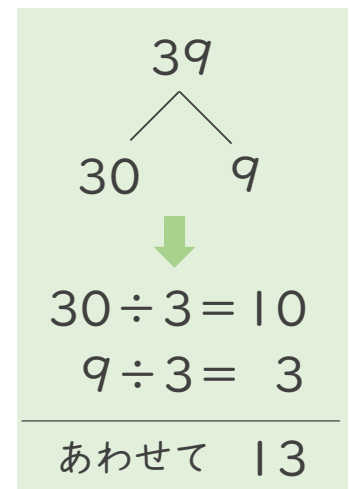


式 $39 \div 3$

② 下の図をもとに計算してみましょう。



式: $39 \div 3 = 13$



答え 13 まい