



大きい数のわり算 I

◎ 60まいの色紙を
3人でわけ

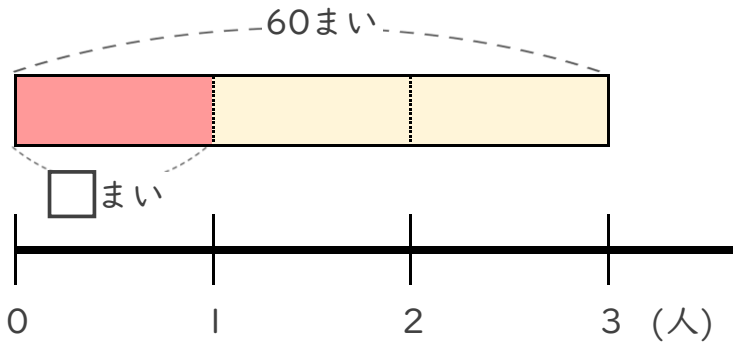


日にち： 月 日

名まえ _____

- ・ 60まいの色紙を、3人で同じ数ずつ分けます。
1人分は何まいになりますか。

(うすい字はなぞりましょう。)

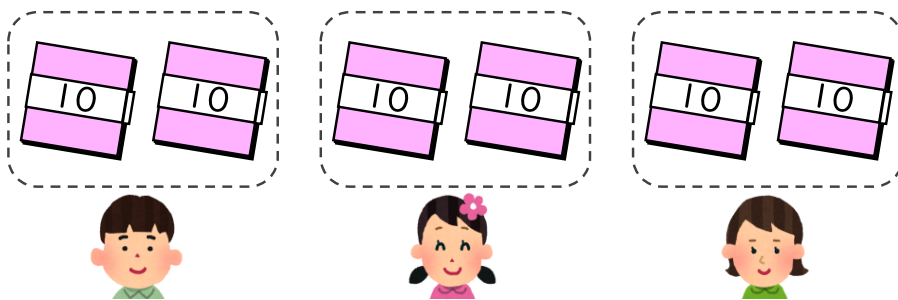


- ① 計算の式を書きましょう。

全部の まい数	÷	分ける 人数
------------	---	-----------

式 $60 \div 3$

- ② 下の図をもとに計算してみましょう。



$$6 \div 3 = 2$$

$$60 \div 3 = \boxed{?}$$

全部の まい数	÷	分ける 人数	=	1人分の まい数
------------	---	-----------	---	-------------

式: $60 \div 3 = 20$

答え 20 まい



大きい数のわり算 I

◎ 60まいの色紙を
3人でわけ

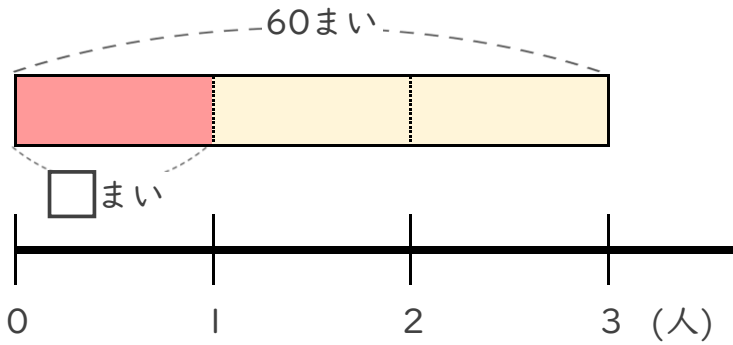


日にち： 月 日

名まえ _____

- ・ 60まいの色紙を、3人で同じ数ずつ分けます。
1人分は何まいになりますか。

(うすい字はなぞりましょう。)

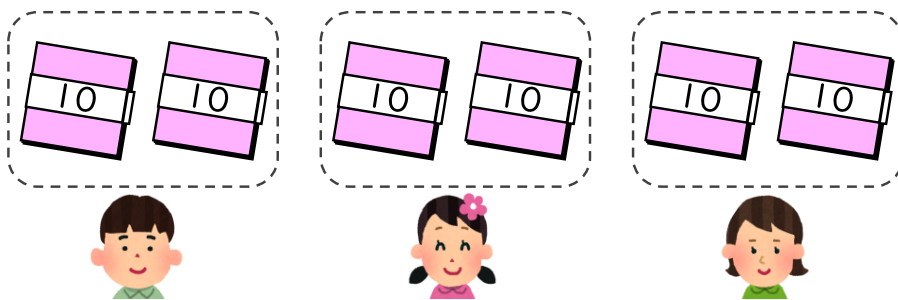


- ① 計算の式を書きましょう。

全部の まい数	÷	分ける 人数
------------	---	-----------

式 $60 \div 3$

- ② 下の図をもとに計算してみましょう。



$$6 \div 3 = 2$$

$$60 \div 3 = \boxed{?}$$

全部の まい数	÷	分ける 人数	=	1人分の まい数
------------	---	-----------	---	-------------

式: $60 \div 3 = 20$

答え 20 まい