




わり算2

◎ 1人分の数を求める



日にち： 月 日

名まえ _____

- ① ゼリーが15こあります。
5人で同じ数ずつ分けると、1人分は何こになりますか。 
(うすい字はなぞりましょう。)

式: $15 \div 5 = 3$

<ヒント>

15÷5の答えは

5のだんの九九で見つけられる


$5 \times 1 = 5$

$5 \times 2 = 10$

★ $5 \times 3 = 15$

答え

こ

- ② いちごが24こあります。
4人で同じ数ずつ分けると、1人分は何こになりますか。 
(うすい字はなぞりましょう。)

式: $24 \div 4 =$

<ヒント>

24÷4の答えは

4のだんの九九で見つけられる

$4 \times 1 = 4$

$4 \times 2 = 8$

$4 \times 3 = 12$

$4 \times 4 = 16$

$4 \times 5 = 20$

★ $4 \times 6 = 24$

答え

こ




わり算 2

● 1人分の数を求める



日にち： 月 日

名まえ _____

- 1 ゼリーが15こあります。
5人で同じ数ずつ分けると、1人分は何こになりますか。 
(うすい字はなぞりましょう。)

式: $15 \div 5 = 3$

答え 3こ

<ヒント>


15÷5の答えは

5のだんの九九で見つけられる

$$5 \times 1 = 5$$

$$5 \times 2 = 10$$

★ $5 \times 3 = 15$

- 2 いちごが24こあります。
4人で同じ数ずつ分けると、1人分は何こになりますか。 
(うすい字はなぞりましょう。)

式: $24 \div 4 = 6$

答え 6こ

<ヒント>

24÷4の答えは

4のだんの九九で見つけられる

$$4 \times 1 = 4$$

$$4 \times 2 = 8$$

$$4 \times 3 = 12$$

$$4 \times 4 = 16$$

$$4 \times 5 = 20$$

★ $4 \times 6 = 24$