



かけ算の筆算4

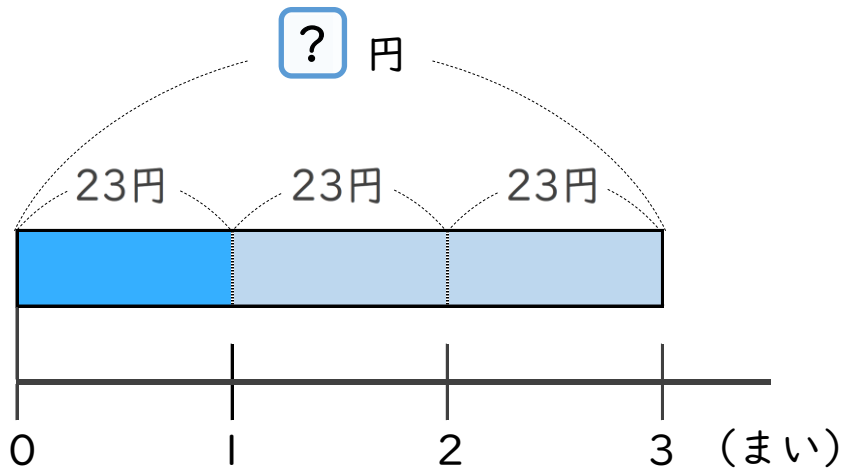
● 23円の画用紙を
3まい買った代金



日にち： 月 日

名まえ _____

1まい23円の色画用紙を、3まい買います。
代金はいくらですか。(うすい字はなぞりましょう)

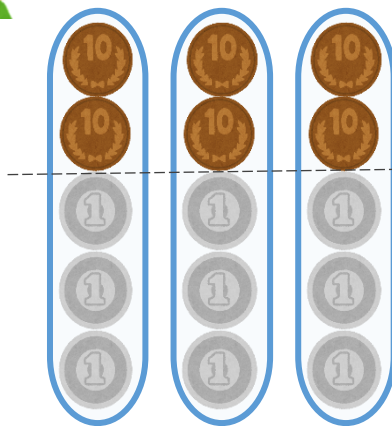


式： $23 \times 3 =$

答え： _____



こうた



$20 \times 3 = 60$

$3 \times 3 = 9$

あわせて

69



かけ算の筆算4

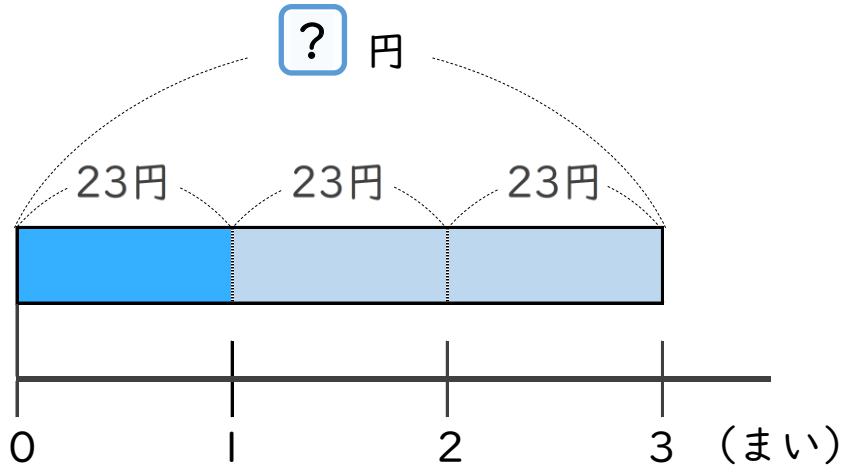
● 23円の画用紙を
3まい買った代金



日にち： 月 日

名まえ _____

- 1 まい23円の色画用紙を、3まい買います。
代金はいくらですか。(うすい字はなぞりましょう)

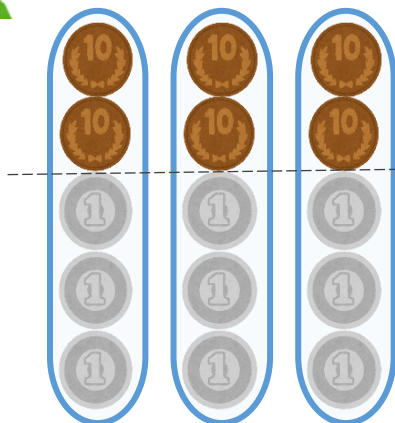


式： $23 \times 3 = 69$

答え： 69 円



こうた



$20 \times 3 = 60$

$3 \times 3 = 9$

あわせて

69

