



かけ算の筆算 9

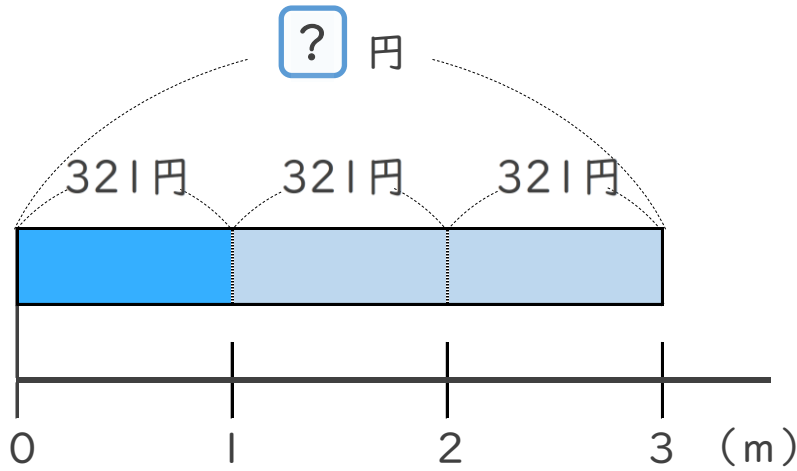
● 321 円のテープを
3m 買った代金



日にち： 月 日

名まえ _____

1 mのねだんが321円のテープを、3m買います。
代金はいくらですか。(うすい字はなぞりましょう)

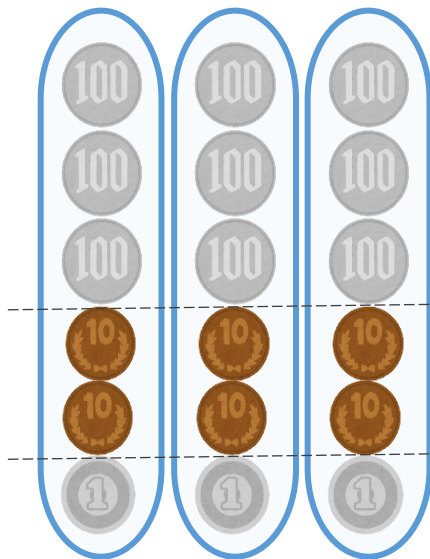


式： $321 \times 3 =$

答え： _____



こうた



$300 \times 3 = 900$

$20 \times 3 = 60$

$1 \times 3 = 3$

あわせて

963



かけ算の筆算 9

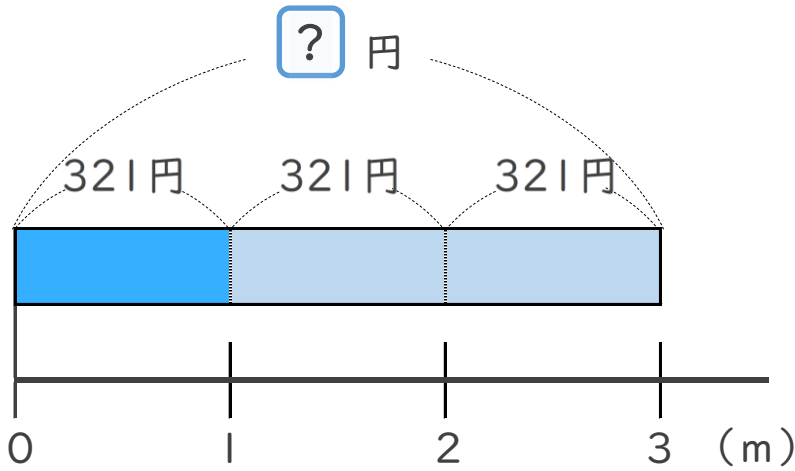
● 321 円のテープを
3m 買った代金



日にち： 月 日

名まえ _____

1mのねだんが321円のテープを、3m買います。
代金はいくらですか。(うすい字はなぞりましょう)

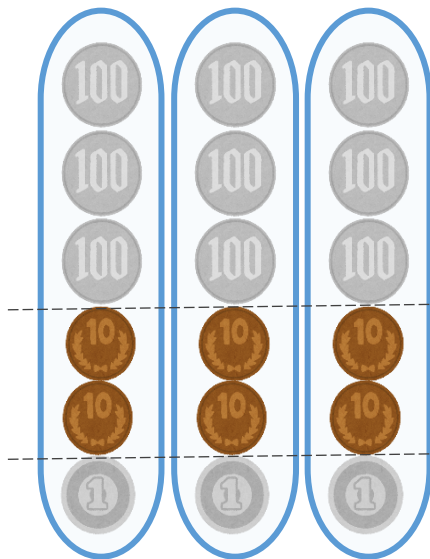


式： $321 \times 3 = 963$

答え： 963 円



こうた



$300 \times 3 = 900$

$20 \times 3 = 60$

$1 \times 3 = 3$

あわせて

963

