



長いものの長さの はかり方と表し方 2

◎ まきじゃくへの書きこみ



日にち： 月 日

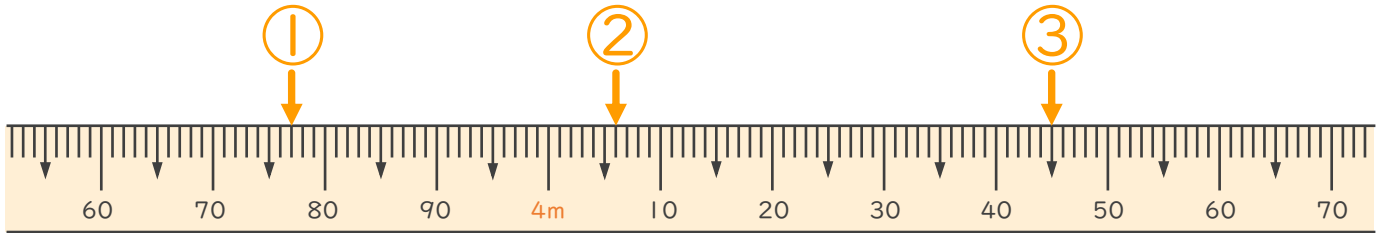
名まえ _____

1 次のまきじゃくで、①～③の長さを表すメモりに ↓ をかきましょう。

① 3 m 77 cm

② 4 m 6 cm

③ 4 m 45 cm

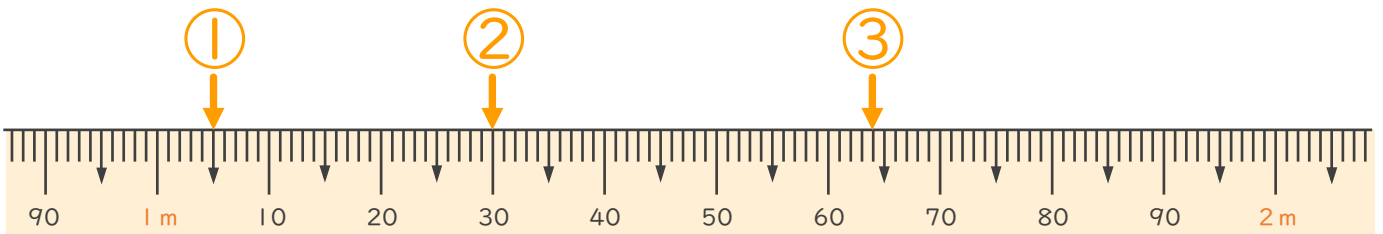


2 次のまきじゃくで、①～③の長さを表すメモりに ↓ をかきましょう。

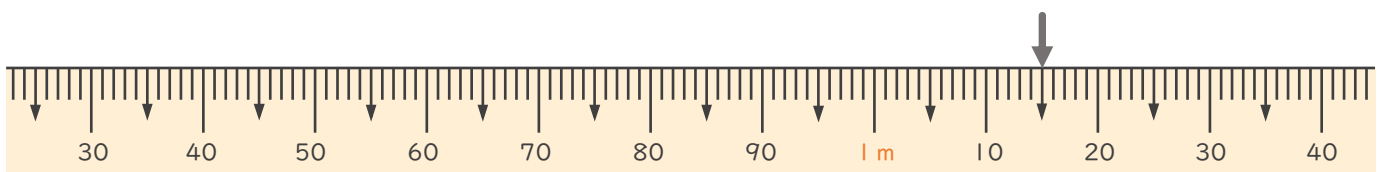
① 1 m 5 cm

② 1 m 30 cm

③ 1 m 64 cm



3 次のまきじゃくで、↓ のメモ리가表している長さを読み取りましょう。



こた 答え (1 m 15 cm)

