



## 円と球 6

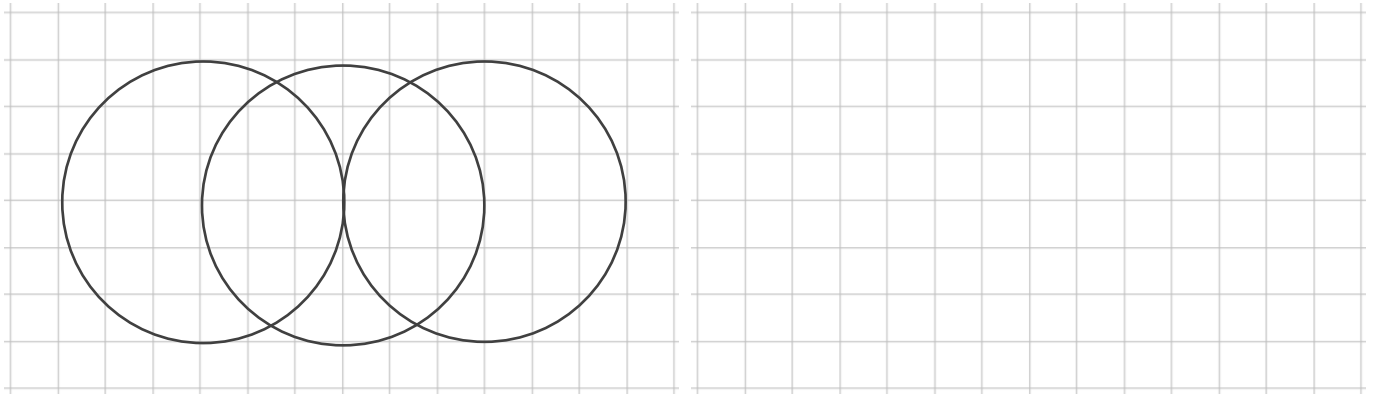
● コンパスを使った  
いろいろな作図



日にち：            月            日

名まえ \_\_\_\_\_

① コンパスを使って、次のもようをかきましょう。



② 直径が5 cmの円をかきましょう。





## 円と球 6

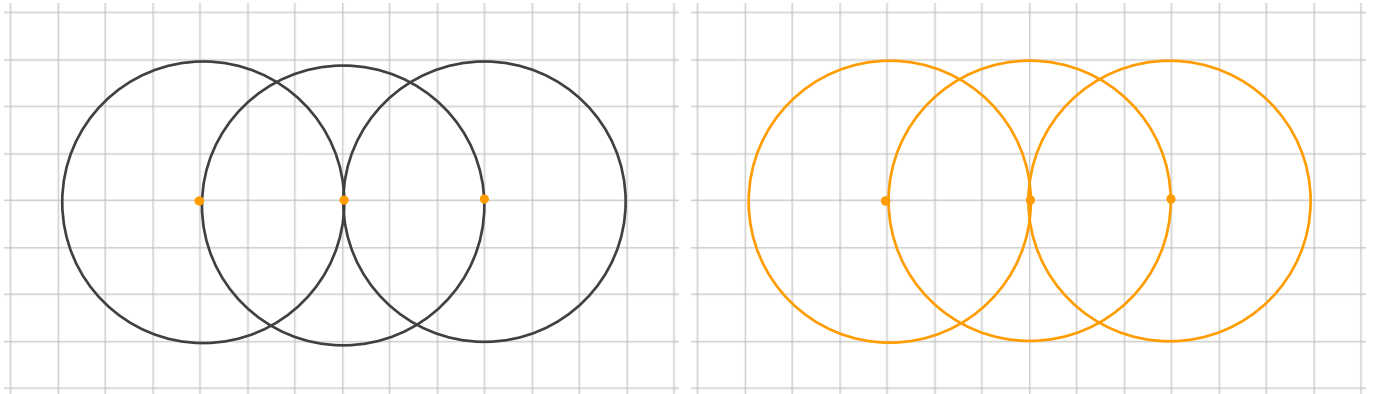
● コンパスを使った  
いろいろな作図



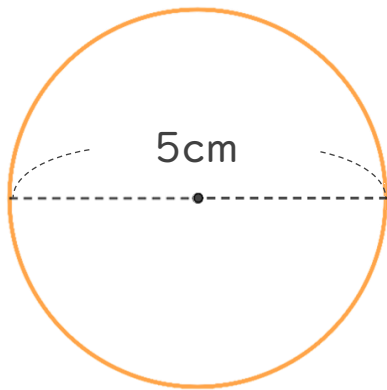
日にち：            月            日

名まえ \_\_\_\_\_

① コンパスを使って、次のもようをかきましょう。



② 直径が5 cmの円をかきましょう。



半径は 2 cm 5 mm

円をかいたら  
直径が5 cmかも  
チェックしよう！

