



# 三角形と角 9

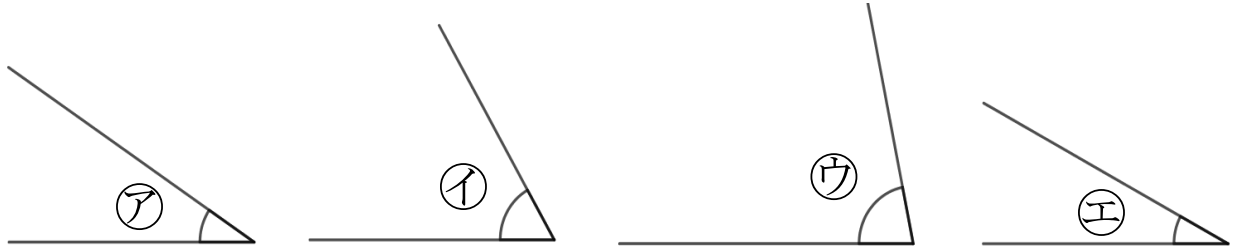
◎ 三角定規の角

10

日にち： 月 日

名まえ \_\_\_\_\_

1 次の図で、次の角を見つけて、㉠～㉤で答えましょう。



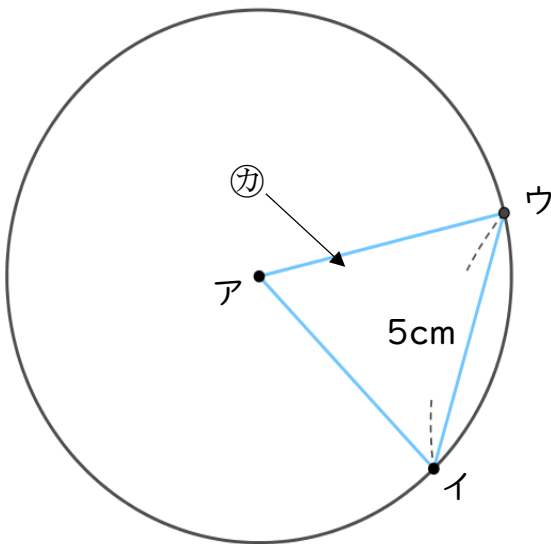
① いちばん大きい角

答え： \_\_\_\_\_

② いちばん小さい角

答え： \_\_\_\_\_

2 アの点を中心とした半径5cmの円のまわりに2つの点を決めて、次の図のような三角形をかきました。



① アイの辺の長さは何cmですか。

答え： \_\_\_\_\_

② カは何という三角形ですか。

答え： \_\_\_\_\_



# 三角形と角 9

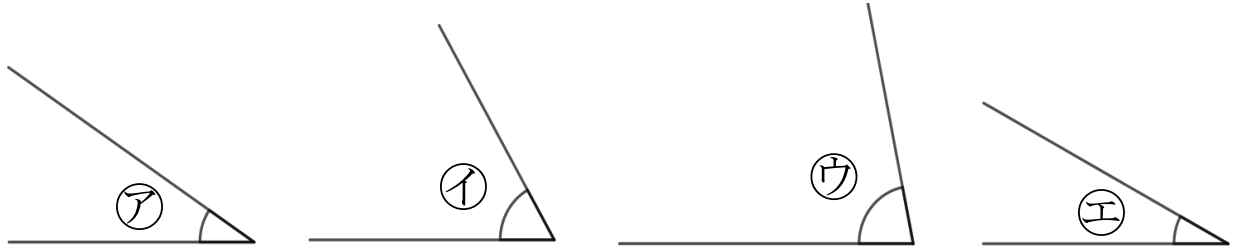
◎ 三角定規の角



日にち： 月 日

名まえ \_\_\_\_\_

1 次の図で、次の角を見つけて、㉠～㉤で答えましょう。



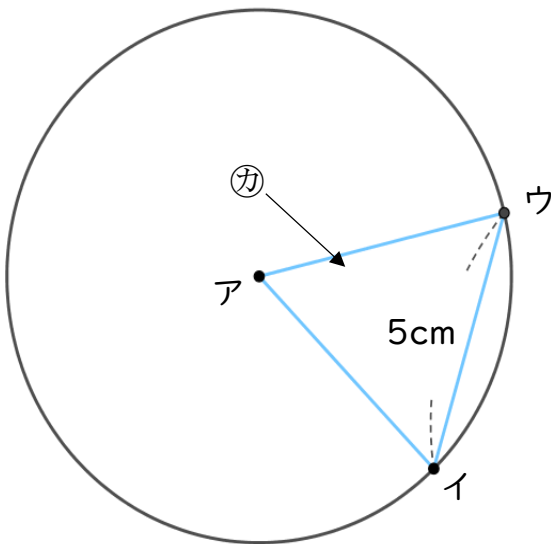
① いちばん大きい角

答え： ㉢

② いちばん小さい角

答え： ㉣

2 アの点を中心とした半径5cmの円のまわりに2つの点を決めて、次の図のような三角形をかきました。



① アイの辺の長さは何cmですか。

答え： 5 cm

② カは何という三角形ですか。

答え： 正三角形