



# 三角形と角 9

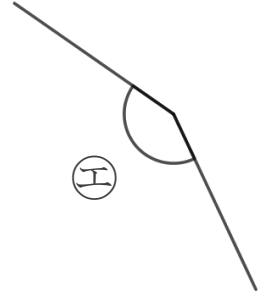
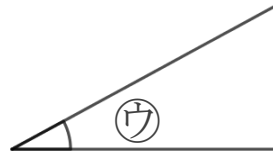
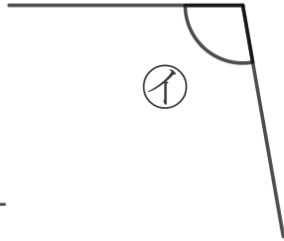
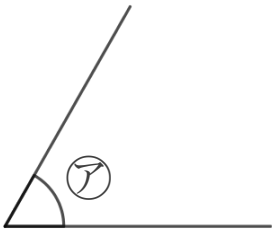
10

◎ 三角定規の角

日にち：            月            日

名まえ \_\_\_\_\_

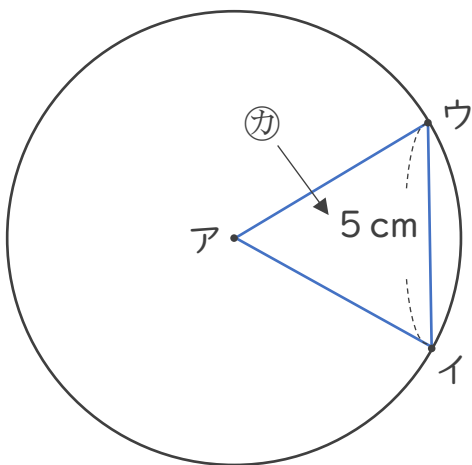
1 次の角を見つけて、㉠～㉢で答えましょう。



① いちばん大きい角      答え： \_\_\_\_\_

② いちばん小さい角      答え： \_\_\_\_\_

2 アの点を中心とした半径5cmの円のまわりに2つの点を決めて、次の図のような三角形をかきました。



① アイの辺の長さは何cmですか。

答え： \_\_\_\_\_

② ㉠は何という三角形ですか。

答え： \_\_\_\_\_



# 三角形と角 9

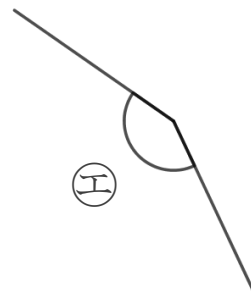
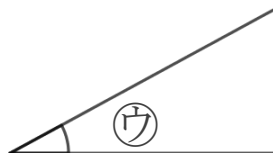
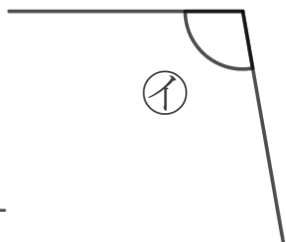
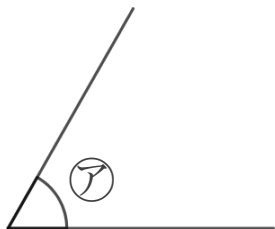
10

◎ 三角定規の角

日にち：            月            日

名まえ \_\_\_\_\_

1 次の角を見つけて、㉠～㉢で答えましょう。



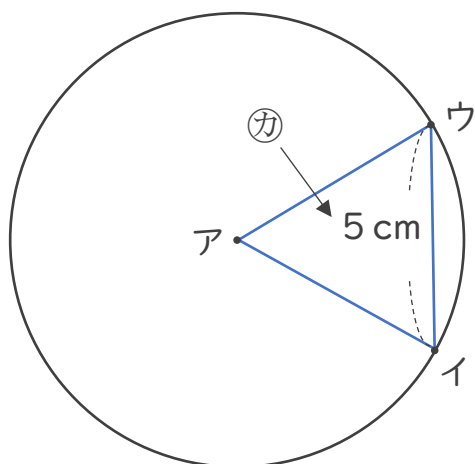
① いちばん大きい角

答え：            ㉢

② いちばん小さい角

答え：            ㉠

2 アの点を中心とした半径5cmの円のまわりに2つの点を決めて、次の図のような三角形をかきました。



① アイの辺の長さは何cmですか。

答え：            5 cm

② ㉢は何という三角形ですか。

答え：            正三角形