



三角形と角5

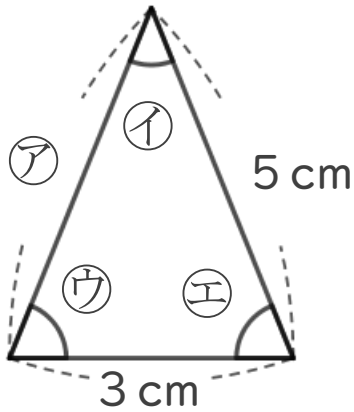
二等辺三角形や
正三角形の中の等しい角



日にち： 月 日

名まえ _____

1 次の図は、二等辺三角形です。




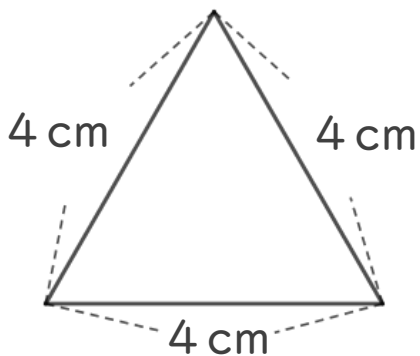
① ①の辺の長さは何cmですか。

答え： _____

② ②の角と大きさが等しい角は、どの角ですか。

答え： _____

2 次の正三角形をかきましょう。





三角形と角5

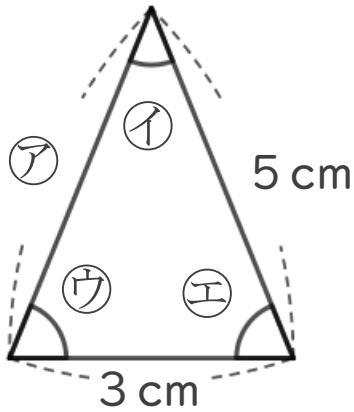
● 二等辺三角形や
正三角形の中の等しい角



日にち： 月 日

名まえ _____

1 次の図は、二等辺三角形です。



① ①の辺の長さは何cmですか。

答え： **5 cm**

② ②の角と大きさが等しい角は、どの角ですか。

答え： **③**

2 次の正三角形をかきましょう。

