



# 三角形と角 8

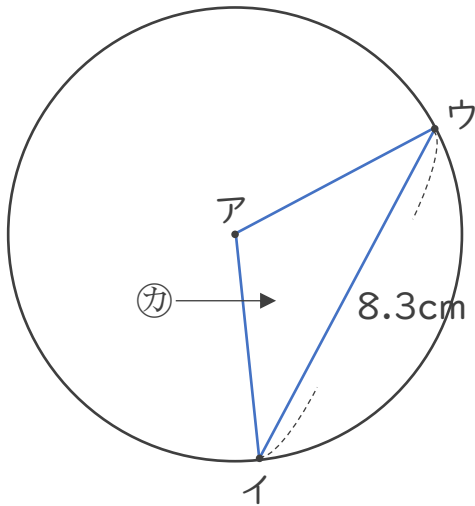
● 円と三角形の関係



日にち：            月            日

名まえ \_\_\_\_\_

1 アの点を中心とした半径7cmの円のまわりに2つの点を決めて、次の図のような三角形をかきました。



① アイの辺の長さは何cmですか。


答え： \_\_\_\_\_

② カは何という三角形ですか。


答え： \_\_\_\_\_

2 円の中に次の三角形をかきましょう。

① 二等辺三角形



② 正三角形





# 三角形と角 8

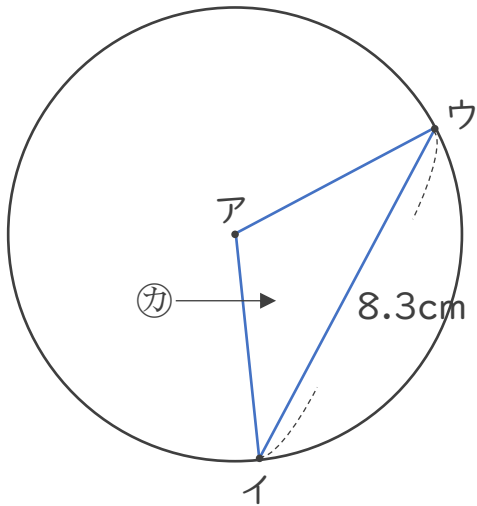


● 円と三角形の関係

日にち：            月            日

名まえ \_\_\_\_\_

1 アの点を中心とした半径7cmの円のまわりに2つの点を決めて、次の図のような三角形をかきました。



① アイの辺の長さは何cmですか。

答え： **7cm**

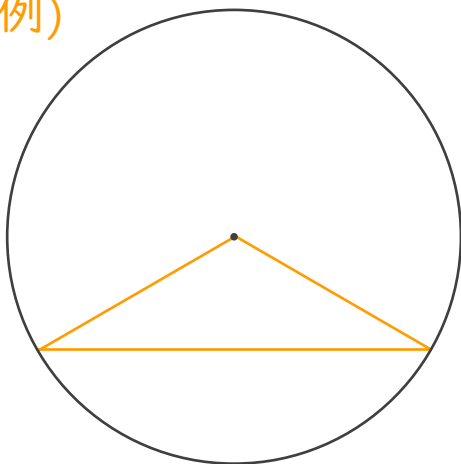
② カは何という三角形ですか。

答え： **二等辺三角形**

2 円の中に次の三角形をかきましょう。

① 二等辺三角形

(例)



② 正三角形

(例)

