



分数 9

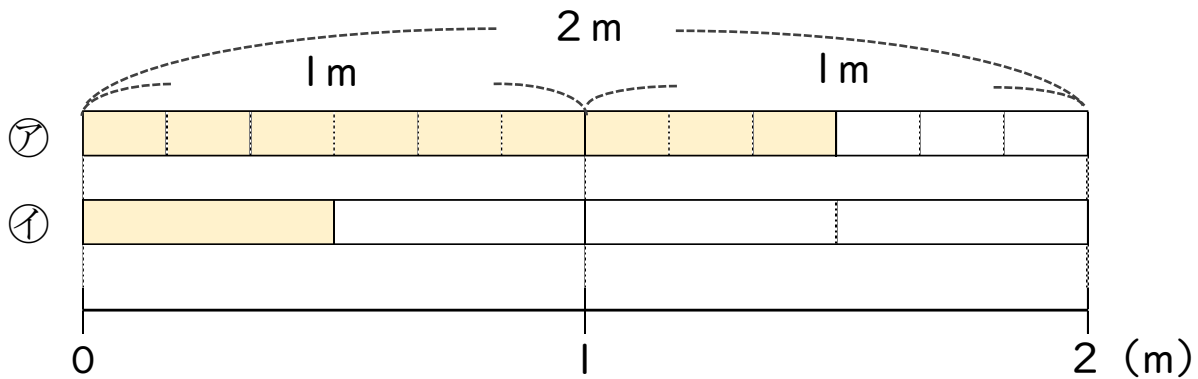
● 分数で表される
りょうとわり合



日にち： 月 日

名まえ

1 次の図を見て答えましょう



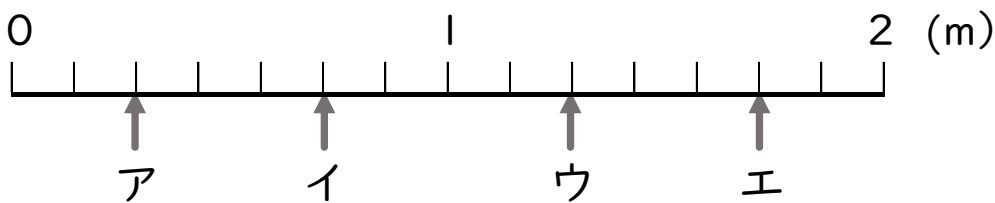
① 色のついた長さを「2mの $\frac{\square}{\square}$ 」という表し方でいみましょう。

ア 2mの ・ イ 2mの

② ア, イの色のついたテープの長さはいそれぞれ何mですか。

ア m ・ イ m

2 ア～エのめもりが表す長さは、それぞれ何mですか。



答え ア イ ウ エ



分数 9

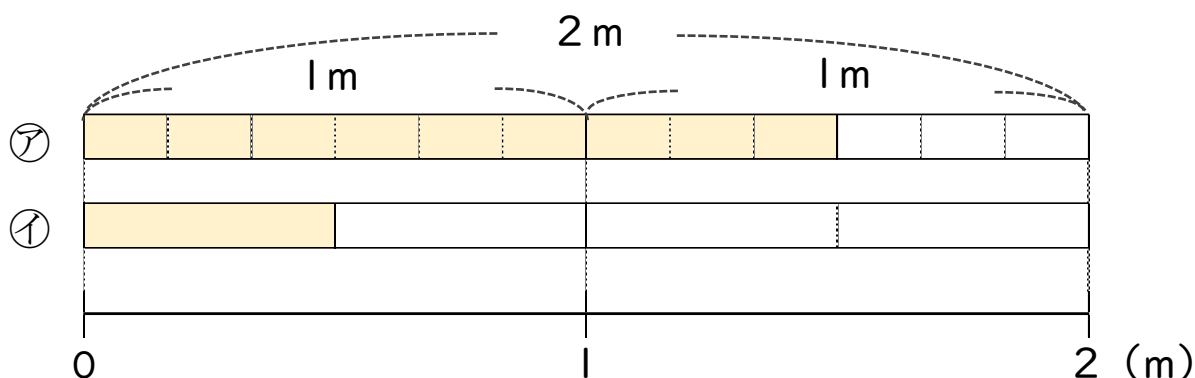
● 分数で表される
りょうとわり合



日にち： 月 日

名まえ _____

1 次の図を見て答えましょう



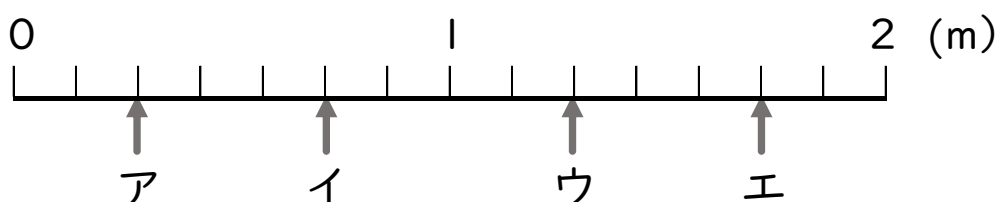
① 色のついた長さを「2mの $\frac{\square}{\square}$ 」という表し方でいましょう。

ア 2mの $\frac{9}{12}$ ・ イ 2mの $\frac{1}{4}$

② ア, イの色のついたテープの長さはいそれぞれ何mですか。

ア $\frac{9}{6}$ m ・ イ $\frac{1}{2}$ m

2 ア～エのめもりが表す長さは、それぞれ何mですか。



答え ア $\frac{2}{7}$ イ $\frac{5}{7}$ ウ $\frac{9}{7}$ エ $\frac{12}{7}$