



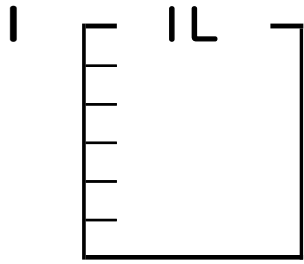
分数 5

● 分数の水のかさの色ぬり



日にち： 月 日

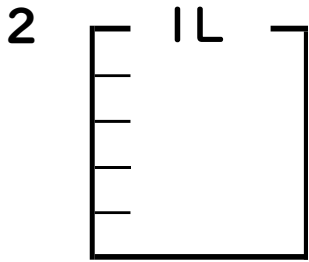
名まえ _____



① $\frac{1}{6}$ Lの 5 こ分だけ色をぬりましょう。

② 色をぬったところのかさは何Lですか。

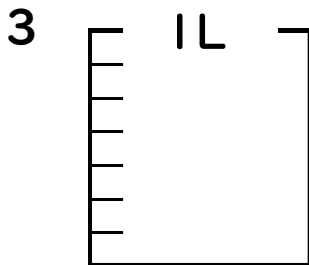
_____ L



① $\frac{1}{5}$ Lの 2 こ分だけ色をぬりましょう。

② 色をぬったところのかさは何Lですか。

_____ L

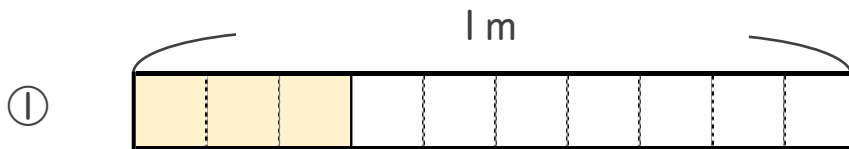


① $\frac{1}{7}$ Lの 4 こ分だけ色をぬりましょう。

② 色をぬったところのかさは何Lですか。

_____ L

4 色をぬったところの長さは、何mでしょう。



こたえ： _____ m



こたえ： _____ m



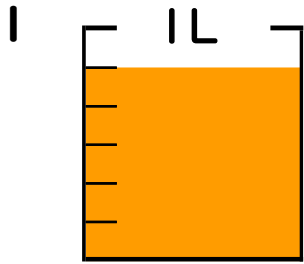
分数 5

● 分数の水のかさの色ぬり



日にち： 月 日

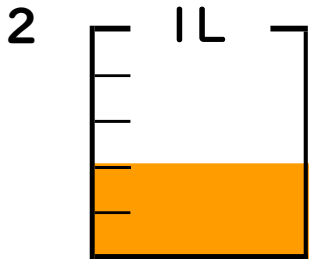
名まえ _____



① $\frac{1}{6}$ Lの 5 部分だけ色をぬりましょう。

② 色をぬったところのかさは何Lですか。

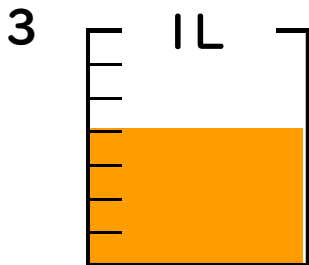
$\frac{5}{6}$ L



① $\frac{1}{5}$ Lの 2 部分だけ色をぬりましょう。

② 色をぬったところのかさは何Lですか。

$\frac{2}{5}$ L

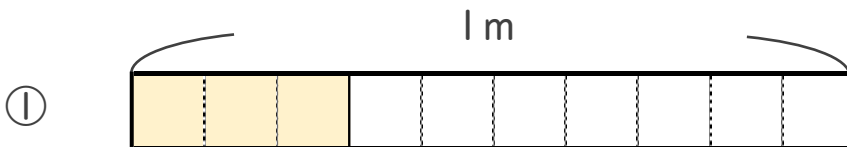


① $\frac{1}{7}$ Lの 4 部分だけ色をぬりましょう。

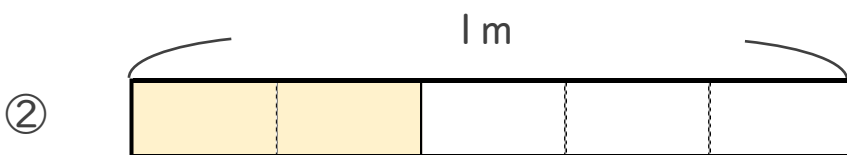
② 色をぬったところのかさは何Lですか。

$\frac{4}{7}$ L

4 色をぬったところの長さは、何mでしょう。



こたえ： $\frac{3}{10}$ m



こたえ： $\frac{2}{5}$ m

