



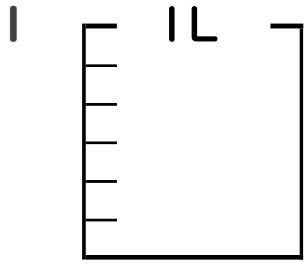
# 分数 5

● 分数の水のかさの色ぬり



日にち：            月            日

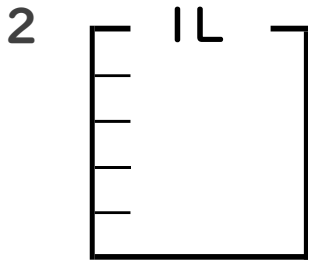
名まえ \_\_\_\_\_



①  $\frac{1}{6}$  Lの 5 こ分だけ色をぬりましょう。

② 色をぬったところのかさは何Lですか。

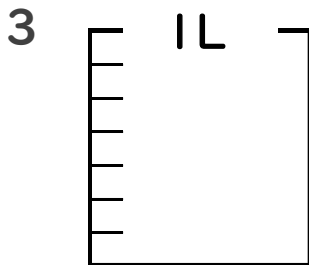
\_\_\_\_\_ L



①  $\frac{1}{5}$  Lの 2 こ分だけ色をぬりましょう。

② 色をぬったところのかさは何Lですか。

\_\_\_\_\_ L

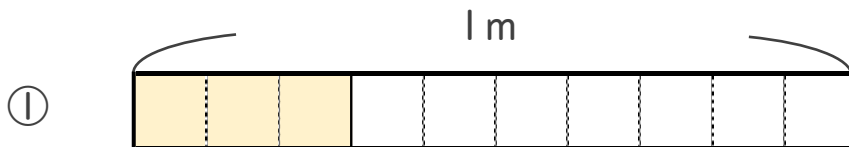


①  $\frac{1}{7}$  Lの 4 こ分だけ色をぬりましょう。

② 色をぬったところのかさは何Lですか。

\_\_\_\_\_ L

4 色をぬったところの長さは、何mでしょう。



こたえ： \_\_\_\_\_ m



こたえ： \_\_\_\_\_ m



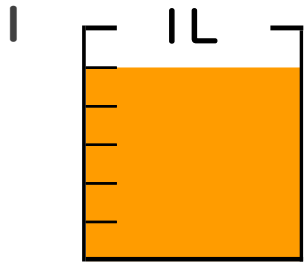
# 分数 5

● 分数の水のかさの色ぬり



日にち：            月            日

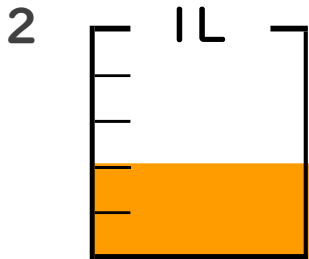
名まえ \_\_\_\_\_



①  $\frac{1}{6}$  Lの 5 ぶんだけ色をぬりましょう。

② 色をぬったところのかさは何Lですか。

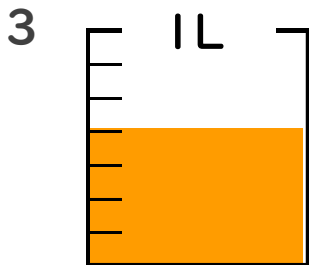
            
 $\frac{5}{6}$  L



①  $\frac{1}{5}$  Lの 2 ぶんだけ色をぬりましょう。

② 色をぬったところのかさは何Lですか。

            
 $\frac{2}{5}$  L

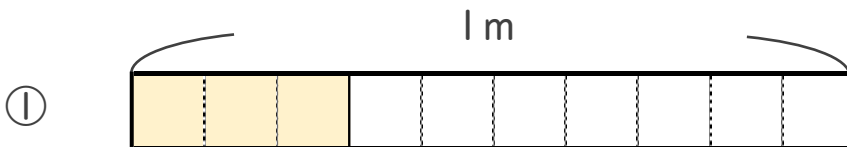


①  $\frac{1}{7}$  Lの 4 ぶんだけ色をぬりましょう。

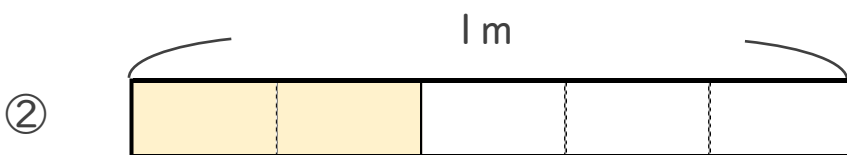
② 色をぬったところのかさは何Lですか。

            
 $\frac{4}{7}$  L

4 色をぬったところの長さは、何mでしょう。



こたえ：             
 $\frac{3}{10}$  m



こたえ：             
 $\frac{2}{5}$  m

