



# 分数 3

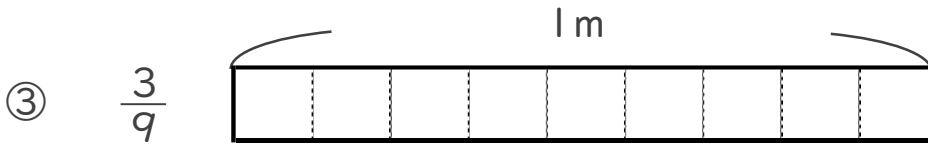
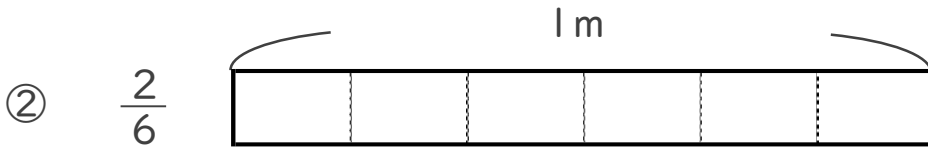
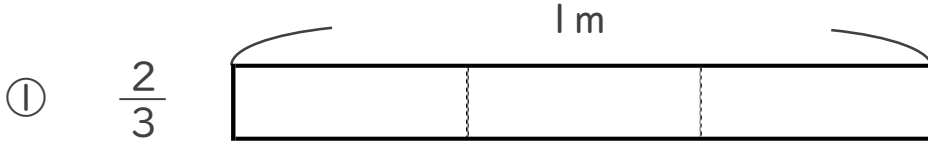
● 分数の長さの色ぬり



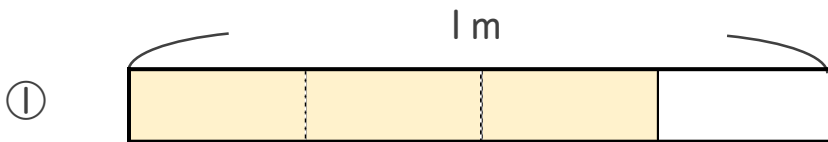
日にち： 月 日

名まえ \_\_\_\_\_

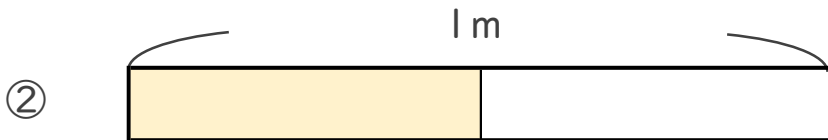
1 次の長さの分だけ色をぬりましょう。



2 色をぬったところの長さは、何mでしょう。



こたえ： \_\_\_\_\_ m



こたえ： \_\_\_\_\_ m





# 分数 3

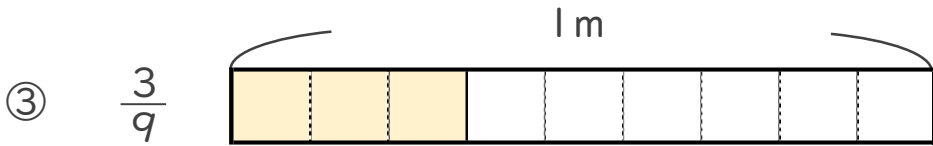
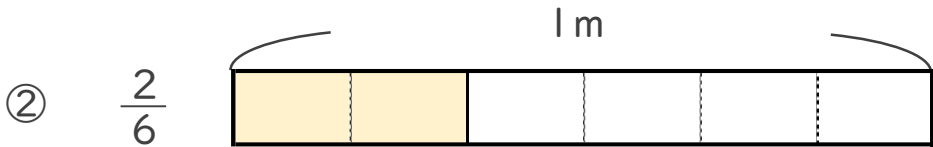
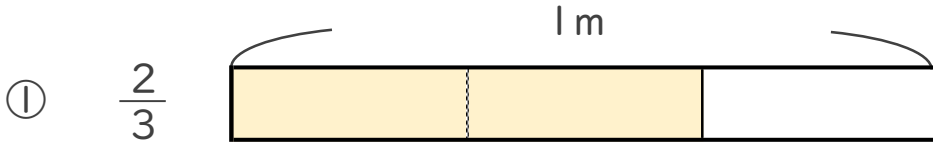
● 分数の長さの色ぬり



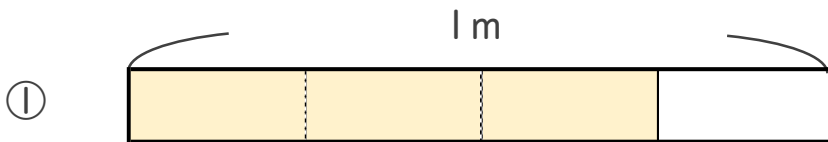
日にち： 月 日

名まえ \_\_\_\_\_


1 次の長さの分だけ色をぬりましょう。



2 色をぬったところの長さは、何mでしょう。



こたえ：           $\frac{3}{4}$            m



こたえ：           $\frac{1}{2}$            m

