



# 小数の意味と表し方 II

● 小数の位置を数直線へ書きこむ



日にち：            月            日

名まえ \_\_\_\_\_

1 次の数を、数直線に ↑ で数を書きましょう。

① 1.3

② 0.1

③ 1

④ 0.8



⑤ 0.9

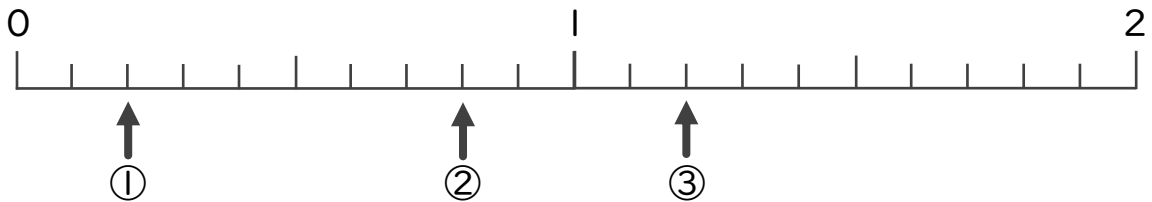
⑥ 1.7

⑦ 0.6

⑧ 2



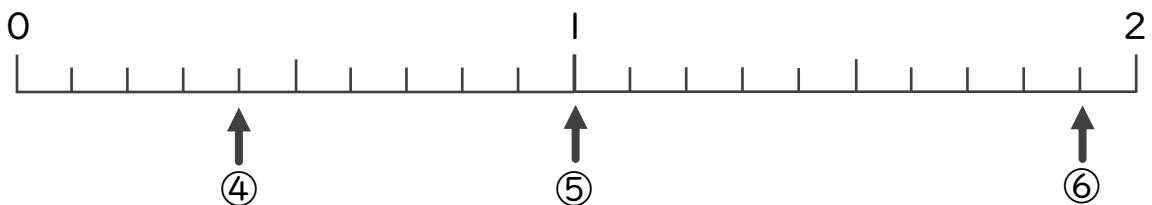
2 下の数直線を見て ↑ のめもりが表す数を書きましょう。



① \_\_\_\_\_

② \_\_\_\_\_

③ \_\_\_\_\_



④ \_\_\_\_\_

⑤ \_\_\_\_\_

⑥ \_\_\_\_\_



# 小数の意味と表し方 II

● 小数の位置を数直線へ書きこむ



日にち：            月            日

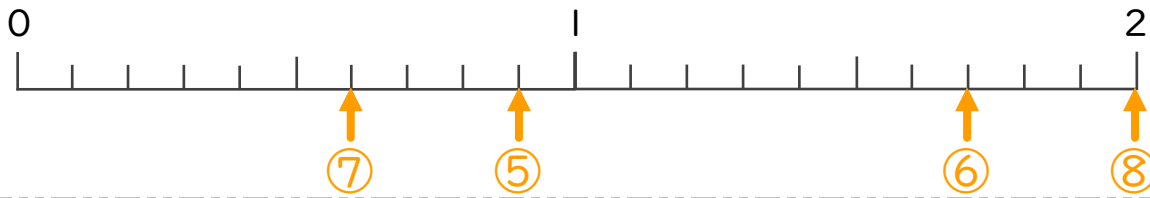
名まえ \_\_\_\_\_

1 次の数を、数直線に ↑ で数を書きましょう。

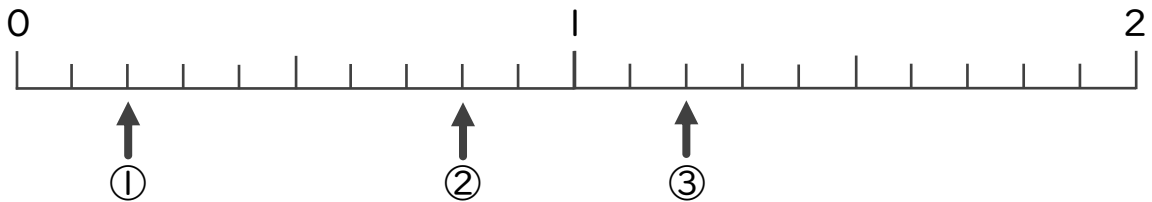
- ① 1.3                      ② 0.1                      ③ 1                      ④ 0.8



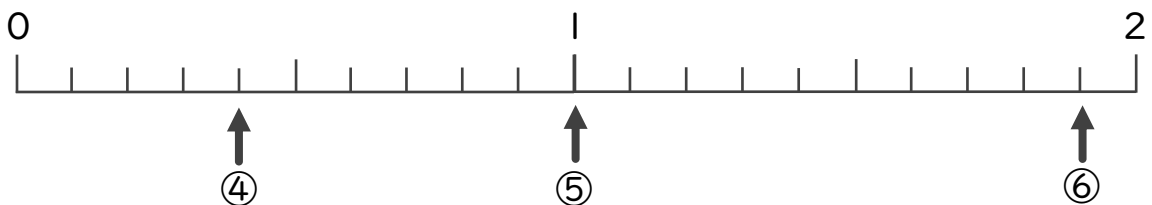
- ⑤ 0.9                      ⑥ 1.7                      ⑦ 0.6                      ⑧ 2



2 下の数直線を見て ↑ のめもりが表す数を書きましょう。



- ① 0.2                      ② 0.8                      ③ 1.2



- ④ 0.4                      ⑤ 1                      ⑥ 1.9