



小数の意味と表し方II

● 小数の位置を数直線へ書きこむ



日にち： 月 日

名まえ _____

1 次の数を表すメモリに↑を書きましょう。

① 1.3

② 0.1

③ 1

④ 0.8



⑤ 0.9

⑥ 1.7

⑦ 0.6

⑧ 2



2 下の数直線を見て↑のメモリが表す数を書きましょう。



①

②

③

① _____

② _____

③ _____



④

⑤

⑥

④ _____

⑤ _____

⑥ _____



小数の意味と表し方 10

● 小数の位置を数直線へ書きこむ



日にち： 月 日

名まえ _____

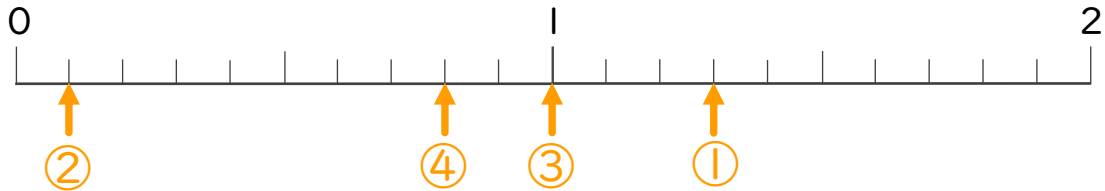
1 次の数を表すメモリに ↑ を書きましょう。

① 1.3

② 0.1

③ 1

④ 0.8

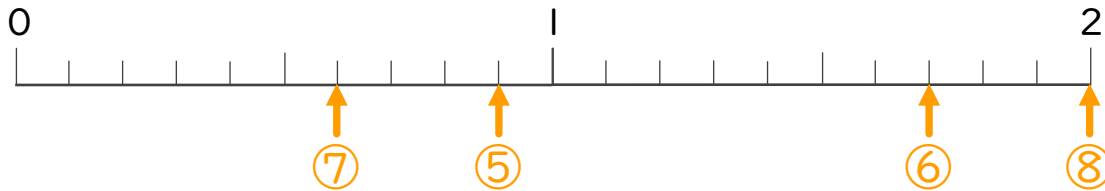


⑤ 0.9

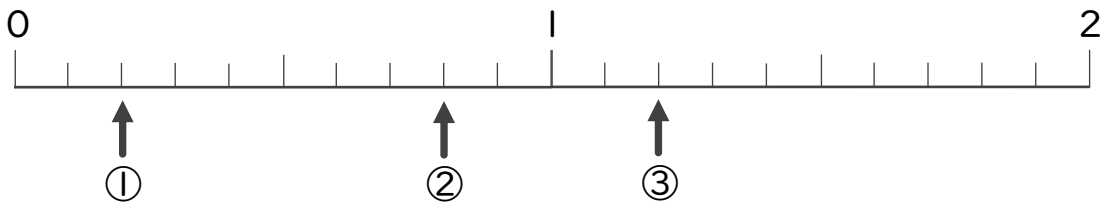
⑥ 1.7

⑦ 0.6

⑧ 2



2 下の数直線を見て ↑ のメモリが表す数を書きましょう。



①

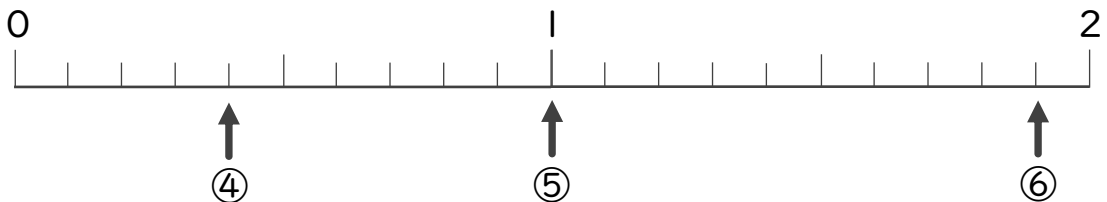
0.2

②

0.8

③

1.2



④

0.4

⑤

1

⑥

1.9