



# 小数の意味と表し方 10

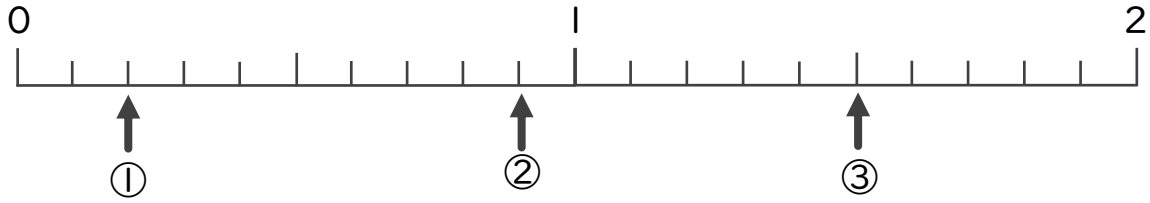
数直線の小数の読みとり



日にち： 月 日

名まえ

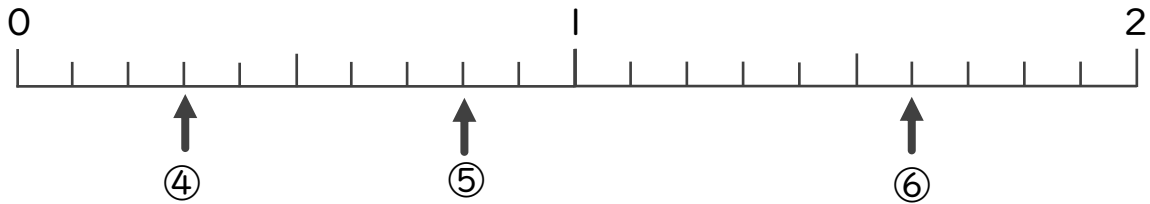
下の数直線を見て ↑ のめもりが表す数を書きましょう。



①

②

③

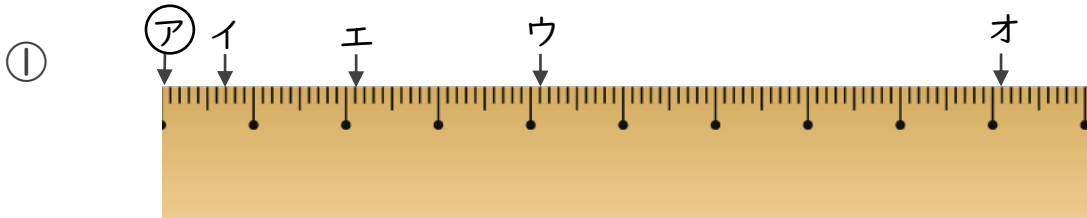


④

⑤

⑥

2 アからイ、ウ、エ、オまでの長さは、それぞれ何cmですか。



答え

アからイ

アからウ

アからエ

アからオ



# 小数の意味と表し方 10

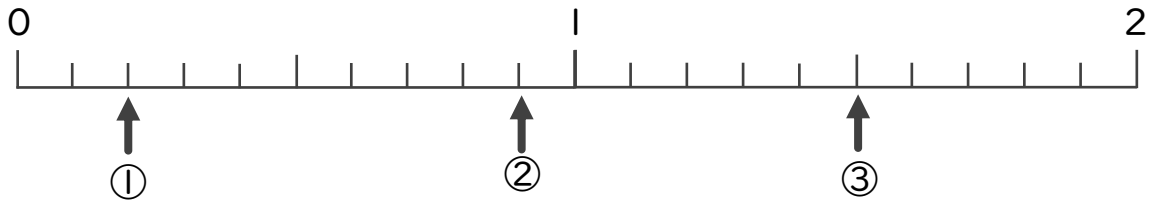
数直線の小数の読みとり



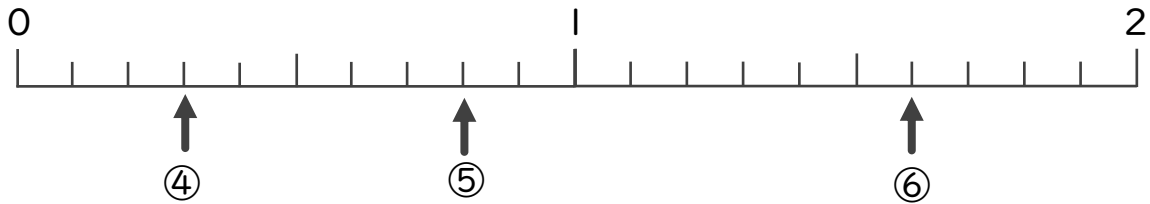
日にち： 月 日

名まえ

下の数直線を見て ↑ のめもりが表す数を書きましょう。

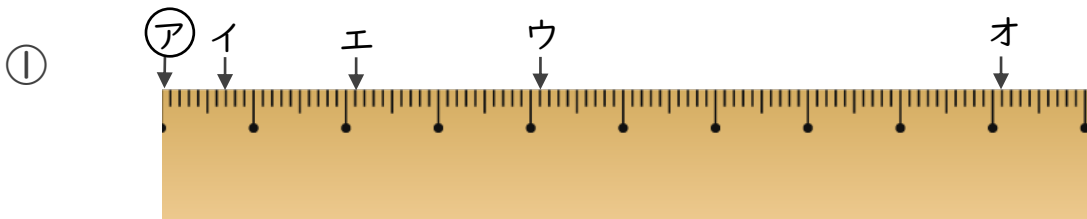


① 0.2      ② 0.9      ③ 1.5



④ 0.3      ⑤ 0.8      ⑥ 1.6

2 ㉞からイ、ウ、エ、オまでの長さは、それぞれ何cmですか。



答え ㉞からイ 0.7 cm      ㉞からウ 4.1 cm

㉞からエ 2.1 cm      ㉞からオ 9.1 cm