



時こくと時間の  
もとめかた 8



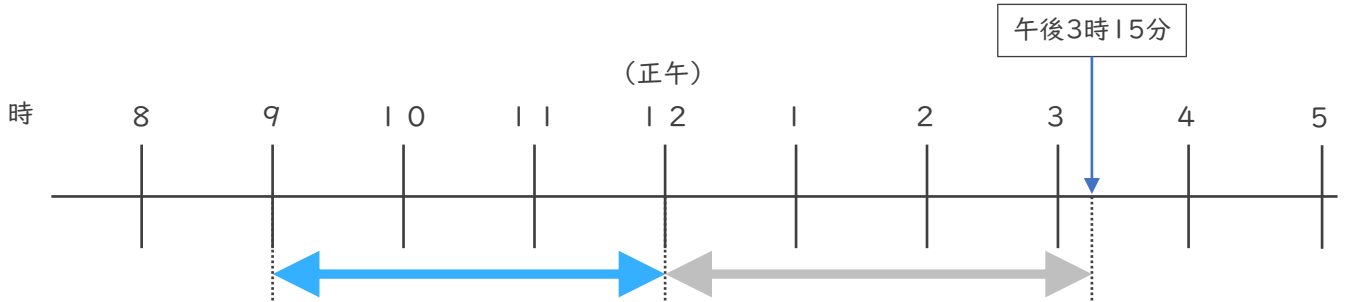
◎ 正午をはさむ計算

日にち： 月 日

名まえ \_\_\_\_\_

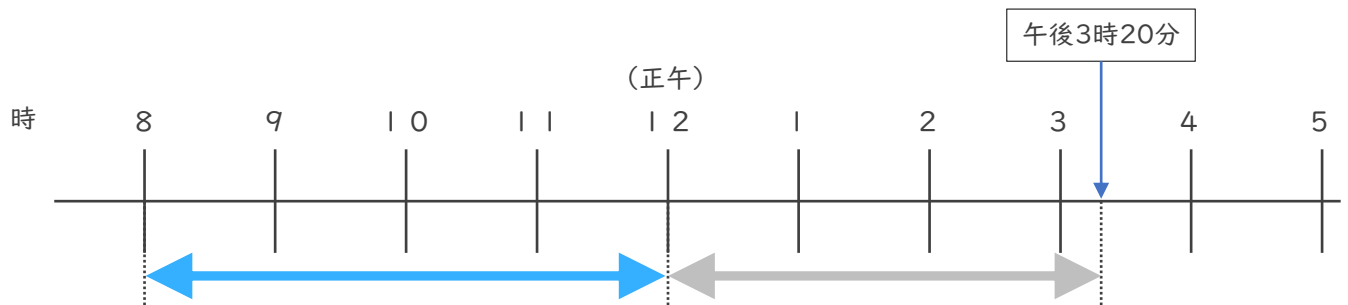
・ 次の時間をもとめましょう。

① 午前9時から午後3時15分までの時間



答え ( )

② 午前8時から午後3時20分までの時間



答え ( )

③ 午後3時50分から午後8時30分までの時間

	7	9	0
	<del>8</del>	時	<del>30</del> 分
-	3	時	50分
<hr/>			
	時		分

答え ( )





# 時こくと時間の もとめかた 8



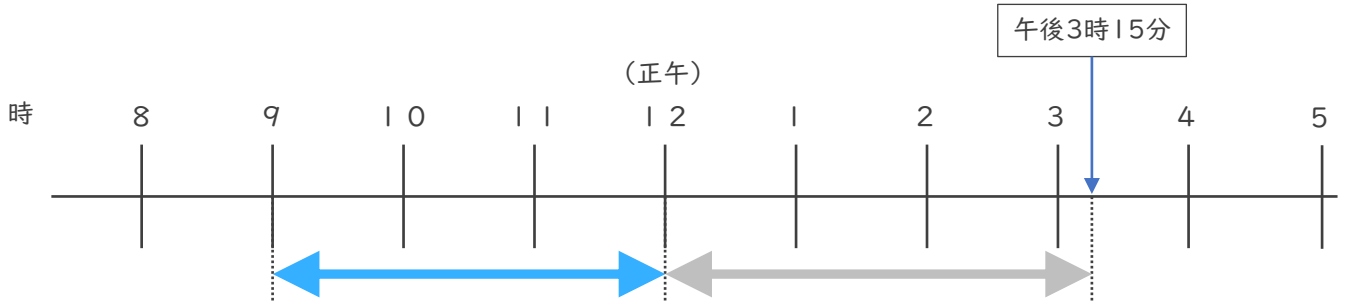
◎ 正午をはさむ計算

日にち：            月            日

名まえ \_\_\_\_\_

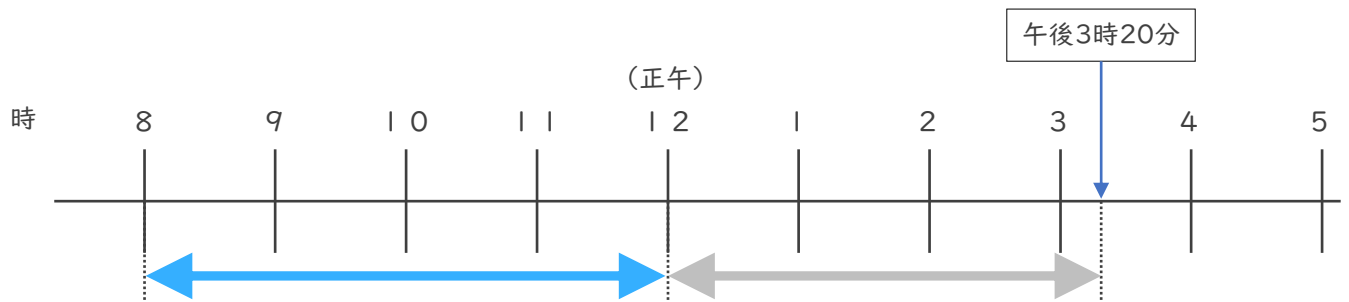
・ 次の時間をもとめましょう。

① 午前9時から午後3時15分までの時間



答え (            6 時間 1 5 分            )

② 午前8時から午後3時20分までの時間



答え (            7 時間 2 0 分            )

③ 午後3時50分から午後8時30分までの時間

	7	9 0	
	8	時	3 0
-	3	時	5 0 分
	4	時	4 0 分

答え (            4 時間 4 0 分            )

