



重さのたんいと はかりかた 20



● 重さのたんいをえらぶ

日にち： 月 日

名まえ _____

1 にあてはまる数を書きましょう。

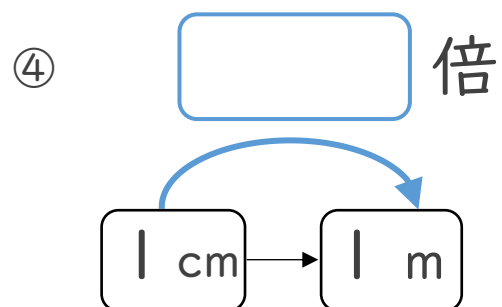
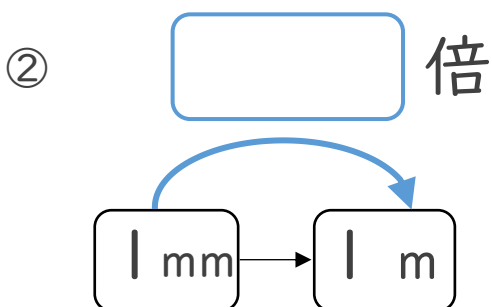
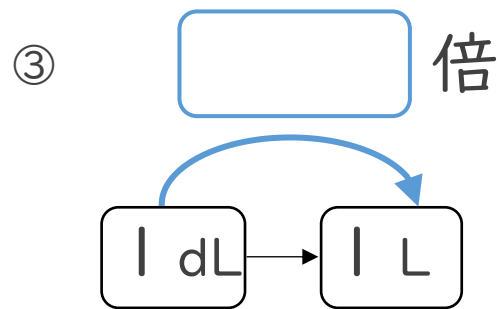
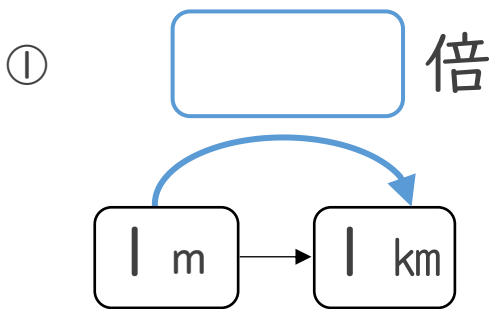
① お茶わん 1 ぱい分のごはんの重さ 1 5 0

② マッコウクジラの重さ 4 1

③ 米だわらの重さ 6 0

④ しお小さじ 1 ぱいの重さ 6

2 にあてはまる数を書きましょう。





重さのたんいと はかりかた 20

10

● 重さのたんいをえらぶ

日にち： 月 日

名まえ _____

1 にあてはまる数を書きましょう。

① お茶わん 1 ぱい分のごはんの重さ 1 5 0

② マッコウクジラの重さ 4 1

③ 米だわらの重さ 6 0

④ しお小さじ 1 ぱいの重さ 6

2 にあてはまる数を書きましょう。

① 倍

③ 倍

② 倍

④ 倍

