





# 分数 8

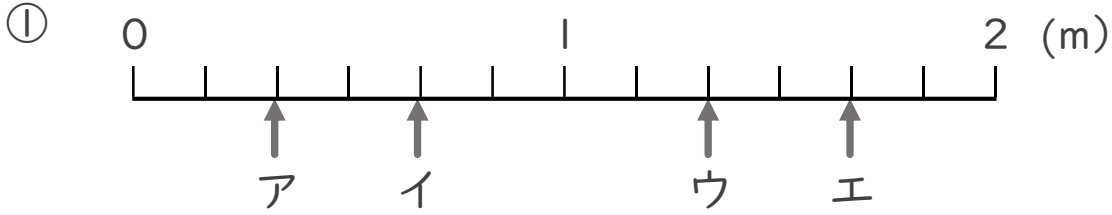
● 1より大きい分数を  
数直線に表す



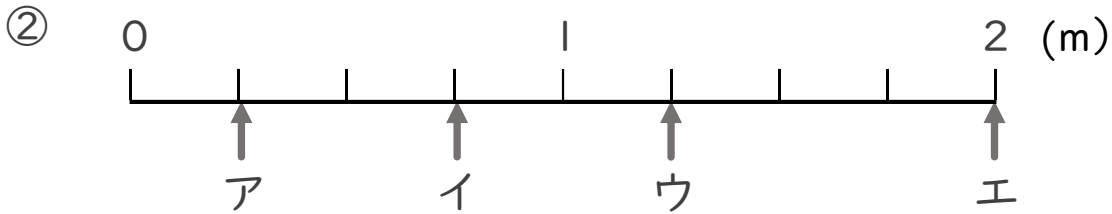
日にち： 月 日

名まえ \_\_\_\_\_

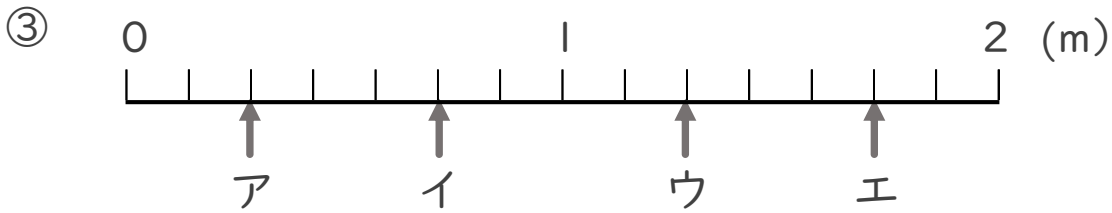
・ ア～エのめもりが表す長さは、それぞれ何mですか。



答え ア  $\frac{2}{6}$  m    イ  $\frac{4}{6}$  m    ウ  $\frac{8}{6}$  m    エ  $\frac{10}{6}$  m



答え ア  $\frac{1}{4}$  m    イ  $\frac{3}{4}$  m    ウ  $\frac{5}{4}$  m    エ 2 m



答え ア  $\frac{2}{7}$  m    イ  $\frac{5}{7}$  m    ウ  $\frac{9}{7}$  m    エ  $\frac{12}{7}$  m