



分数 7

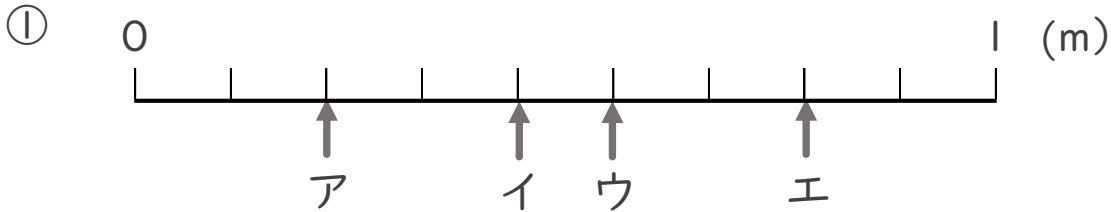
1より小さい分数を数直線に表す



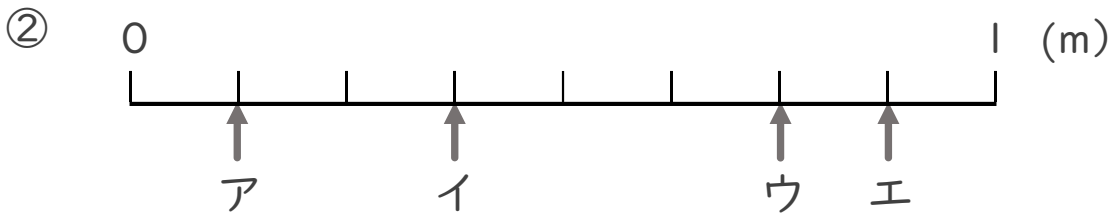
日にち： 月 日

名まえ \_\_\_\_\_

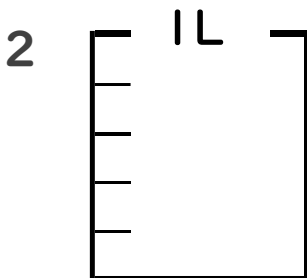
1 ア～エのめもりが表す長さは、それぞれ何mですか。



答え ア \_\_\_\_\_ m    イ \_\_\_\_\_ m    ウ \_\_\_\_\_ m    エ \_\_\_\_\_ m



答え ア \_\_\_\_\_ m    イ \_\_\_\_\_ m    ウ \_\_\_\_\_ m    エ \_\_\_\_\_ m



①  $\frac{1}{5}$  Lの3こ分だけ色をぬりましょう。

② 色をぬったところのかさは何Lですか。 \_\_\_\_\_ L



# 分数 7

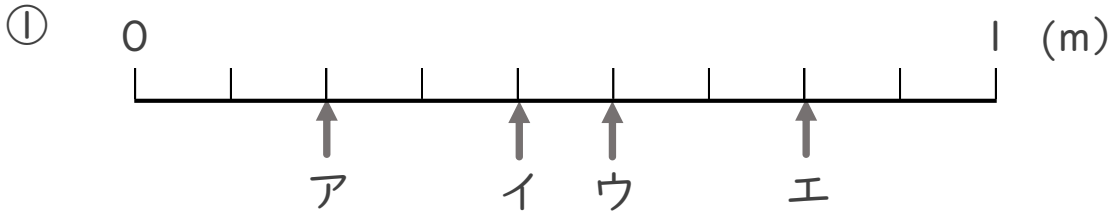
● 1より小さい分数を  
数直線に表す



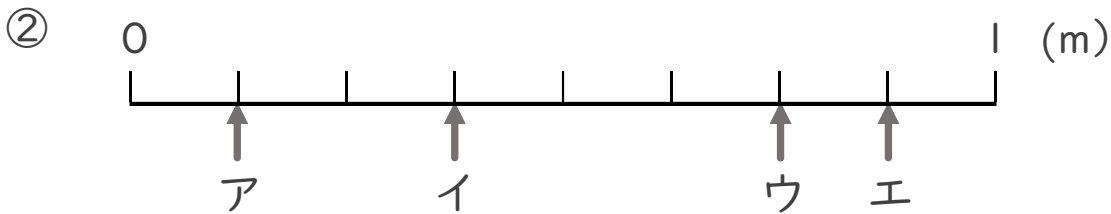
日にち： 月 日

名まえ \_\_\_\_\_

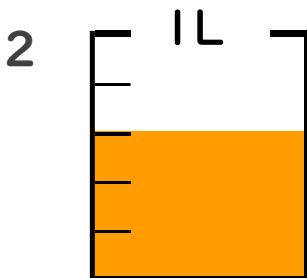
1 ア～エのめもりが表す長さは、それぞれ何mですか。



答え ア  $\frac{2}{9}$  m イ  $\frac{4}{9}$  m ウ  $\frac{5}{9}$  m エ  $\frac{7}{9}$  m



答え ア  $\frac{1}{8}$  m イ  $\frac{3}{8}$  m ウ  $\frac{6}{8}$  m エ  $\frac{7}{8}$  m



①  $\frac{1}{5}$  Lの3こ分だけ色をぬりましょう。

② 色をぬったところのかさは何Lですか。  $\frac{3}{5}$  L