



大きい数のしくみ 9

● 1万の位の数直線

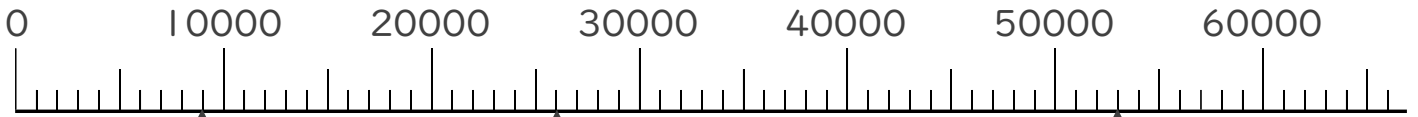


日にち： 月 日

名まえ _____

1 ㉠～㉣のめもりが表している数を〔 〕に書きましょう。

①

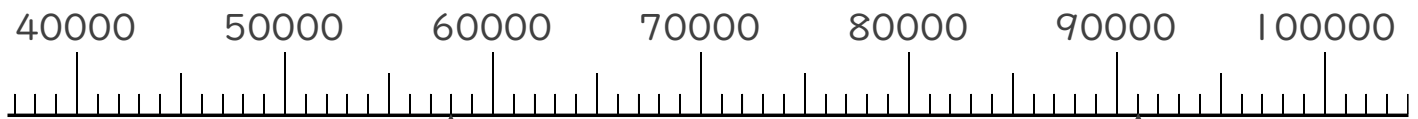


〔 〕

〔 〕

〔 〕

②

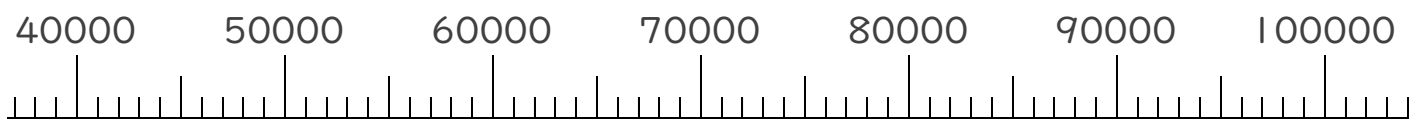


〔 〕

〔 〕

2 次の数を表すめもりに、↑を書きましょう。

- ① 44000 ② 67000 ③ 82000





大きい数のしくみ 9

● 1万の位の数直線

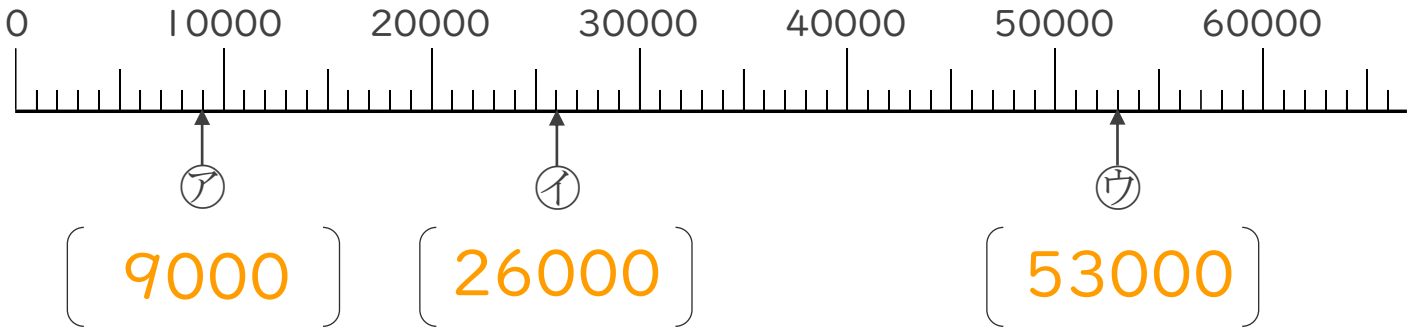


日にち： 月 日

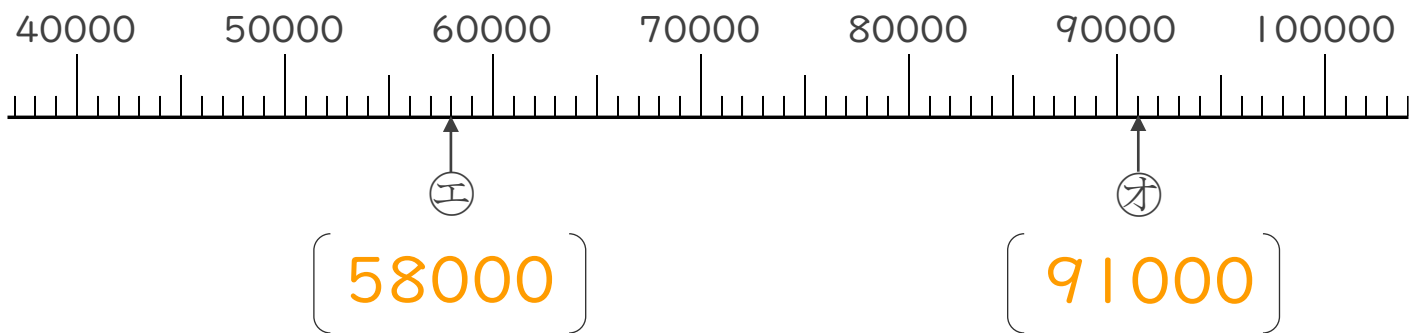
名まえ _____

1 ㉠～㉣のめもりが表している数を〔 〕に書きましょう。

①



②



2 次の数を表すめもりに、↑を書きましょう。

- ① 44000 ② 67000 ③ 82000

