



日にち： 月 日


名まえ _____

・ 次の計算を筆算でしましょう。


$$\begin{array}{r} \textcircled{1} \quad 1000 \\ - \quad 468 \\ \hline \end{array}$$

$$\begin{array}{r} \textcircled{2} \quad 1000 \\ - \quad 592 \\ \hline \end{array}$$


$$\textcircled{3} \quad 503 - 76$$




$$\textcircled{4} \quad 1000 - 713$$



$$\textcircled{5} \quad 1000 - 684$$



$$\textcircled{6} \quad 900 - 8$$





たし算と
ひき算の筆算 16

◎ 1000 から引くひき算



日にち： 月 日

名まえ _____

・ 次の計算を筆算でしましょう。

$$\begin{array}{r} 9 9 \\ 0 \cancel{10} \cancel{10} 10 \\ \textcircled{1} \quad \cancel{1} \cancel{0} \cancel{0} 0 \\ - 4 6 8 \\ \hline 5 3 2 \end{array}$$

$$\begin{array}{r} 9 9 \\ 0 \cancel{10} \cancel{10} 10 \\ \textcircled{2} \quad \cancel{1} \cancel{0} \cancel{0} 0 \\ - 5 9 2 \\ \hline 4 0 8 \end{array}$$

③ 503 - 76

		9	
	4	10	10
	5	0	3
-		7	6
	4	2	7

④ 1000 - 713

		9	9
	0	10	10
	1	0	0
-		7	1
		2	8

⑤ 1000 - 684

		9	9
	0	10	10
	1	0	0
-		6	8
		3	1

⑥ 900 - 8

		9	
	8	10	10
	9	0	0
-			8
		8	9