



たし算と
ひき算の筆算 2

● 3けたのたし算
(一の位くり上がり)

10

日にち： 月 日


名まえ _____

・ 次の計算を筆算でしましょう。


$$\begin{array}{r} \textcircled{1} \quad 125 \\ + 253 \\ \hline \end{array}$$

$$\begin{array}{r} \textcircled{2} \quad 418 \\ + 132 \\ \hline \end{array}$$


$$\textcircled{3} \quad 236 + 247$$



$$\textcircled{4} \quad 334 + 412$$



$$\textcircled{5} \quad 518 + 153$$



$$\textcircled{6} \quad 606 + 318$$





たし算と
ひき算の筆算 2

● 3けたのたし算
(一の位くり上がり)

10

日にち： 月 日

名まえ _____

・ 次の計算を筆算でしましょう。

$$\begin{array}{r} \textcircled{1} \quad 125 \\ + 253 \\ \hline 378 \end{array}$$

$$\begin{array}{r} \textcircled{2} \quad 418 \\ + 132 \\ \hline 550 \end{array}$$

$$\textcircled{3} \quad 236 + 247$$

$$\begin{array}{r} 236 \\ + 247 \\ \hline 483 \end{array}$$

$$\textcircled{4} \quad 334 + 412$$

$$\begin{array}{r} 334 \\ + 412 \\ \hline 746 \end{array}$$

$$\textcircled{5} \quad 518 + 153$$

$$\begin{array}{r} 518 \\ + 153 \\ \hline 671 \end{array}$$

$$\textcircled{6} \quad 606 + 318$$

$$\begin{array}{r} 606 \\ + 318 \\ \hline 924 \end{array}$$