



たし算と
ひき算の筆算 3

● 3けたのたし算
(十の位くり上がり)



日にち： 月 日


名まえ _____

・ 次の計算を筆算でしましょう。


$$\begin{array}{r} \textcircled{1} \quad 186 \\ + 292 \\ \hline \end{array}$$

$$\begin{array}{r} \textcircled{2} \quad 307 \\ + 343 \\ \hline \end{array}$$


$$\textcircled{3} \quad 438 + 145$$




$$\textcircled{4} \quad 363 + 483$$



$$\textcircled{5} \quad 465 + 306$$



$$\textcircled{6} \quad 143 + 161$$





たし算と
ひき算の筆算 3

● 3けたのたし算
(十の位くり上がり)

10

日にち： 月 日

名まえ _____

・ 次の計算を筆算でしましょう。

$$\begin{array}{r} \text{①} \quad \quad | \quad 8 \quad 6 \\ + \quad 2 \quad 9 \quad 2 \\ \hline \quad 4 \quad 7 \quad 8 \end{array}$$

$$\begin{array}{r} \text{②} \quad \quad | \quad 0 \quad 7 \\ + \quad 3 \quad 4 \quad 3 \\ \hline \quad 6 \quad 5 \quad 0 \end{array}$$

③ 438 + 145

	4	3	8
+	1	4	5
<hr/>			
	5	8	3

④ 363 + 483

	3	6	3
+	4	8	3
<hr/>			
	8	4	6

⑤ 465 + 306

	4	6	5
+	3	0	6
<hr/>			
	7	7	1

⑥ 143 + 161

	1	4	3
+	1	6	1
<hr/>			
	3	0	4

