



たし算と
ひき算の筆算 14

● 3けたのひき算
(十の位が0)

10

日にち： 月 日

名まえ



・ 次の計算を筆算でしましょう。

$$\begin{array}{r} \textcircled{1} \quad 807 \\ - 639 \\ \hline \end{array}$$

$$\begin{array}{r} \textcircled{2} \quad 701 \\ - 683 \\ \hline \end{array}$$


$$\textcircled{3} \quad 503 - 296$$

$$\textcircled{4} \quad 610 - 5$$



$$\textcircled{5} \quad 965 - 8$$

$$\textcircled{6} \quad 400 - 164$$





たし算と
ひき算の筆算 14

● 3けたのひき算
(十の位が0)



日にち： 月 日

名まえ _____

・ 次の計算を筆算でしましょう。

$$\begin{array}{r} 9 \\ 7 \cancel{0} 10 \\ \textcircled{1} \quad \cancel{8} \cancel{0} 7 \\ - 639 \\ \hline 168 \end{array}$$

$$\begin{array}{r} 9 \\ 6 \cancel{0} 10 \\ \textcircled{2} \quad \cancel{7} \cancel{0} 1 \\ - 683 \\ \hline 18 \end{array}$$

③ 503 - 296

	5	0	3
-	2	9	6
<hr/>			
	2	0	7

④ 610 - 5

	6	1	0
-			5
<hr/>			
	6	0	5

⑤ 965 - 8

		5	10
	9	6	5
-			8
<hr/>			
	9	5	7

⑥ 400 - 164

	3	0	10
	4	0	0
-	1	6	4
<hr/>			
	2	3	6