



たし算と
ひき算の筆算 23

● 3けたのひき算
(2回くり下がり)

10

日にち： 月 日

名まえ _____

・ 次の計算を筆算でしましょう。


①

$$\begin{array}{r} 513 \\ - 327 \\ \hline \end{array}$$


②

$$\begin{array}{r} 1000 \\ - 251 \\ \hline \end{array}$$


③ $405 - 67$




④ $732 - 95$



⑤ $621 - 29$



⑥ $346 - 287$





たし算と
ひき算の筆算 23

● 3けたのひき算
(2回くり下がり)



日にち： 月 日

名まえ _____

・ 次の計算を筆算でしましょう。

①

$$\begin{array}{r} \overset{4}{\cancel{5}} \overset{10}{0} \overset{10}{3} \\ - 327 \\ \hline 186 \end{array}$$

②

$$\begin{array}{r} \overset{9}{\cancel{0}} \overset{9}{\cancel{0}} \overset{10}{0} \\ - 251 \\ \hline 749 \end{array}$$

③ 405 - 67

		9	
	3	10	10
	4	0	5
-		6	7
<hr/>			
	3	3	8

④ 732 - 95

		10	
	6	2	10
	7	3	2
-		9	5
<hr/>			
	6	3	7

⑤ 621 - 29

		10	
	5	1	10
	6	2	1
-		2	9
<hr/>			
	5	9	2

⑥ 346 - 287

		10	
	2	3	10
	3	4	6
-		2	8
<hr/>			
		5	9

