



たし算と  
ひき算の筆算 15

● 3けた - 2けた  
(十の位が0)

10

日にち： 月 日

名まえ



・ 次の計算を筆算でしましょう。

① 
$$\begin{array}{r} 807 \\ - \quad 9 \\ \hline \end{array}$$

② 
$$\begin{array}{r} 701 \\ - \quad 83 \\ \hline \end{array}$$



③  $303 - 196$

④  $600 - 5$



⑤  $905 - 48$

⑥  $400 - 274$





たし算と  
ひき算の筆算 15

● 3けた-2けた  
(十の位が0)



日にち： 月 日

名まえ \_\_\_\_\_

・ 次の計算を筆算でしましょう。

①

$$\begin{array}{r}
 \phantom{0}9 \\
 7 \cancel{0} 10 \\
 \cancel{8} \cancel{0} 7 \\
 - \phantom{0} \phantom{0} 9 \\
 \hline
 7 \phantom{0} 8
 \end{array}$$

②

$$\begin{array}{r}
 \phantom{0}9 \\
 6 \cancel{0} 10 \\
 \cancel{7} \cancel{0} 1 \\
 - \phantom{0} \phantom{0} 8 3 \\
 \hline
 6 \phantom{0} 8
 \end{array}$$

③ 303 - 196

	$\phantom{0}9$		
	2 $\cancel{0}$ 10		
	$\cancel{3}$ $\cancel{0}$ 3		
-	1 9 6		
	1 0 7		

④ 600 - 5

	$\phantom{0}9$		
	5 $\cancel{0}$ 10		
	$\cancel{6}$ $\cancel{0}$ 0		
-			5
	5 9 5		

⑤ 905 - 48

	$\phantom{0}9$		
	8 $\cancel{0}$ 10		
	$\cancel{9}$ $\cancel{0}$ 5		
-		4 8	
	8 5 7		

⑥ 400 - 274

	$\phantom{0}9$		
	3 $\cancel{0}$ 10		
	$\cancel{4}$ $\cancel{0}$ 0		
-		2 7 4	
	1 2 6		