

たし算と
ひき算の筆算 15
● 3けた-2けた
(十の位が0)

10

日にち： 月 日

名まえ _____



・ 次の計算を筆算でしましょう。

$$\begin{array}{r} \textcircled{1} \quad 807 \\ - \quad \quad 9 \\ \hline \end{array}$$

$$\begin{array}{r} \textcircled{2} \quad 701 \\ - \quad \quad 83 \\ \hline \end{array}$$



$$\textcircled{3} \quad 303 - 196$$

$$\textcircled{4} \quad 600 - 5$$



$$\textcircled{5} \quad 905 - 48$$

$$\textcircled{6} \quad 400 - 274$$





たし算と
ひき算の筆算 15

● 3けた-2けた
(十の位が0)



日にち： 月 日

名まえ _____

・ 次の計算を筆算でしましょう。

$$\begin{array}{r} 9 \\ 7 \cancel{0} 10 \\ \textcircled{1} \quad \cancel{8} \cancel{0} 7 \\ - 9 \\ \hline 7 \ 9 \ 8 \end{array}$$

$$\begin{array}{r} 9 \\ 6 \cancel{0} 10 \\ \textcircled{2} \quad \cancel{7} \cancel{0} 1 \\ - 8 \ 3 \\ \hline 6 \ 1 \ 8 \end{array}$$

③ 303 - 196

	2	0	10
	3	0	3
-	1	9	6
	1	0	7

④ 600 - 5

	5	0	10
	6	0	0
-			5
	5	9	5

⑤ 905 - 48

	8	0	10
	9	0	5
-		4	8
	8	5	7

⑥ 400 - 274

	3	0	10
	4	0	0
-	2	7	4
	1	2	6

