



円と球 7

コンパスで長さ比べ



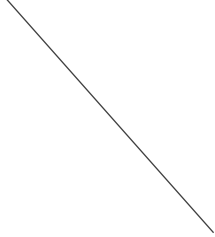
日にち： 月 日

名まえ _____

1 次の直線の長さをくらべ、長いじゆんに答えましょう。

①


ア



イ



ウ



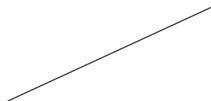
答え： → →

②


ア



イ


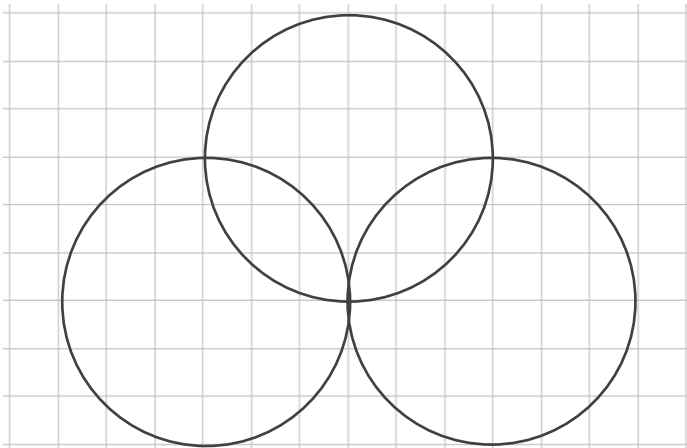


ウ



答え： → →

2 コンパスを使って、次のもようをかきましょう。





円と球 7

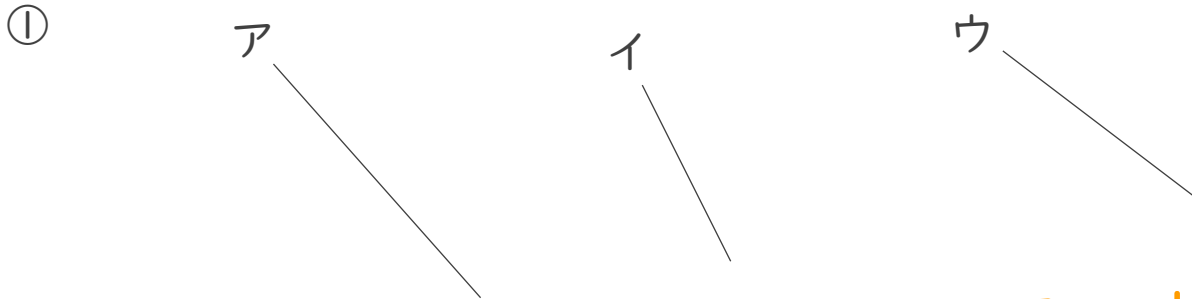
コンパスで長さ比べ



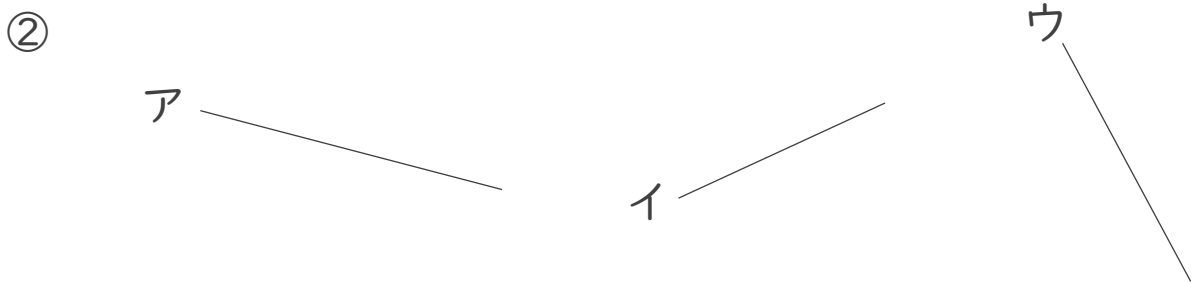
日にち： 月 日

名まえ _____

1 次の直線の長さをくらべ、長いじゆんに答えましょう。



答え： ア → ウ → イ



答え： ア → ウ → イ

2 コンパスを使って、次のもようをかきましょう。

