



円と球 6

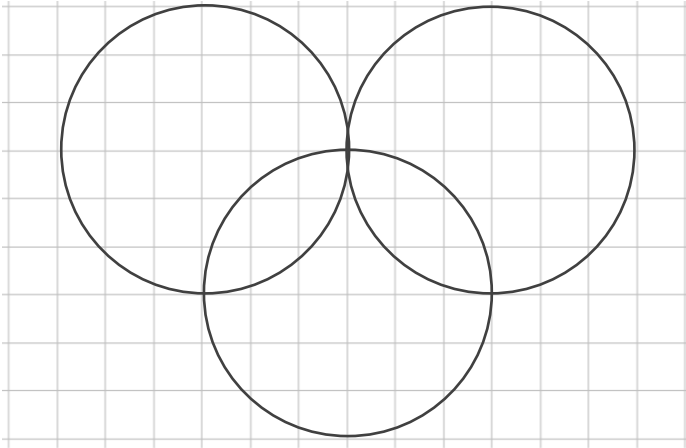
● コンパスを使った
いろいろな作図



日にち： 月 日

名まえ _____

① コンパスを使って、次のもようをかきましょう。



② 直径が3 cmの円をかきましょう。

•



円と球 6

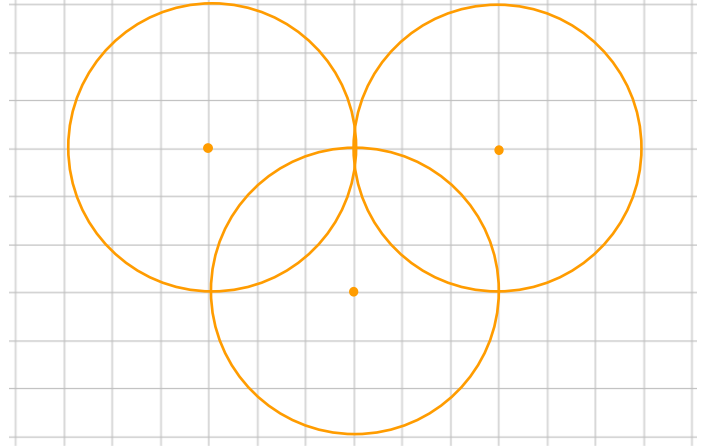
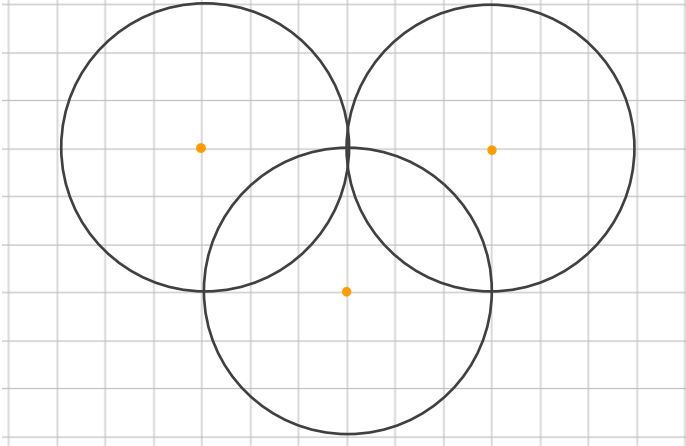
● コンパスを使った
いろいろな作図



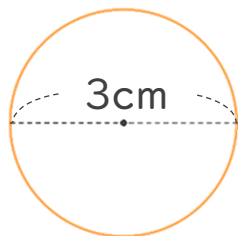
日にち： 月 日

名まえ _____

① コンパスを使って、次のもようをかきましょう。



② 直径が3 cmの円をかきましょう。



半径は 1 cm 5 mm

円をかいたら
直径が3 cmかも
チェックしよう！