



円と球 2

● 円の半径や直径の長さ

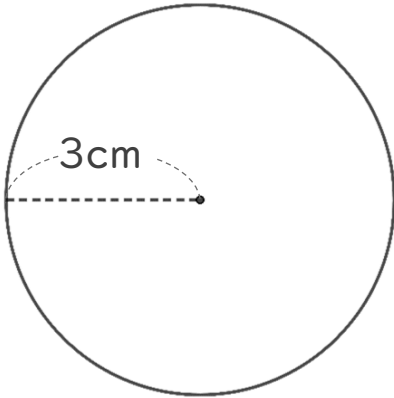


日にち： 月 日

名まえ _____

・ 次の円の半径や直径は何cmですか。

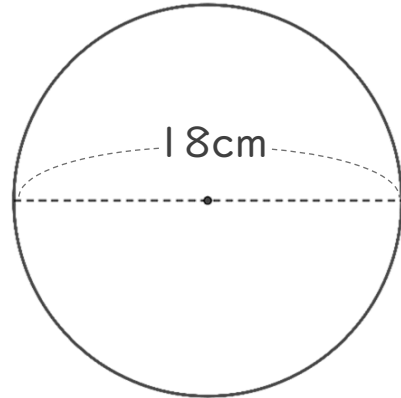
① 直径は何cmですか。



式：

答え： _____

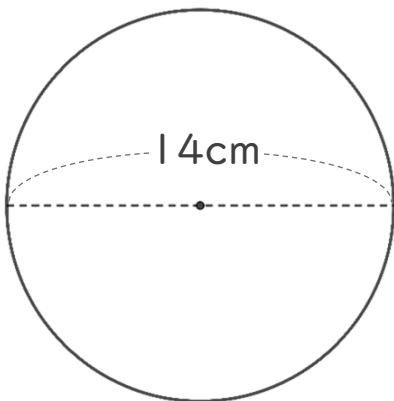
③ 半径は何cmですか。



式：

答え： _____

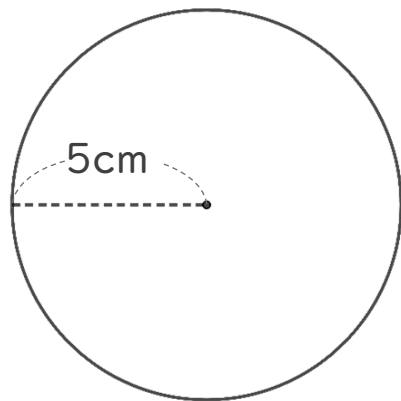
② 半径は何cmですか。



式：

答え： _____

④ 直径は何cmですか。



式：

答え： _____



円と球 2

● 円の半径や直径の長さ

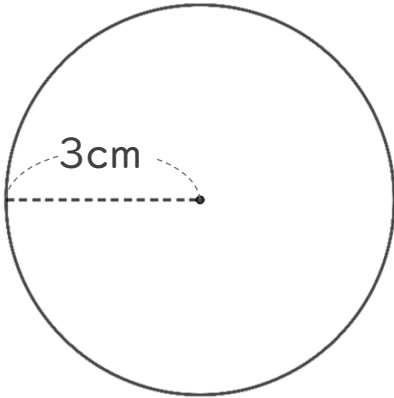


日にち： 月 日

名まえ _____

・ 次の円の半径や直径は何cmですか。

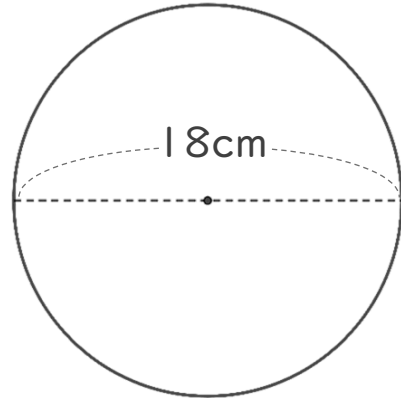
① 直径は何cmですか。



式： $3 \times 3 = 9$

答え： 9 cm

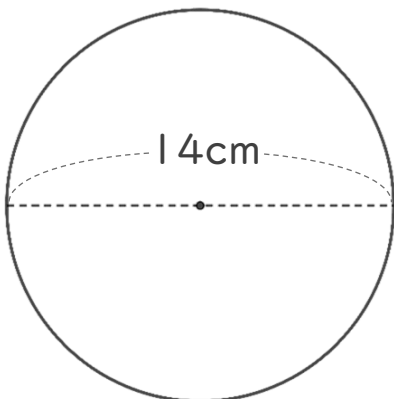
③ 半径は何cmですか。



式： $18 \div 2 = 9$

答え： 9 cm

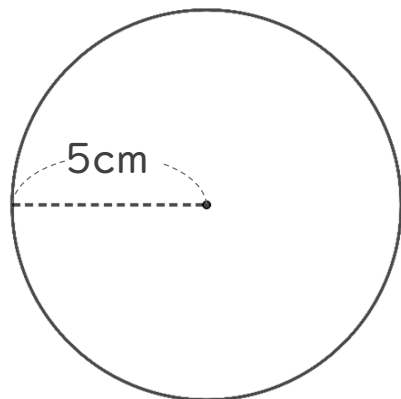
② 半径は何cmですか。



式： $14 \div 2 = 7$

答え： 7 cm

④ 直径は何cmですか。



式： $5 \times 2 = 10$

答え： 10 cm