



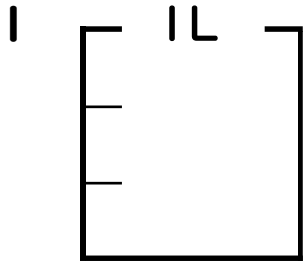
分数 5

● 分数の水のかさの色ぬり



日にち： 月 日

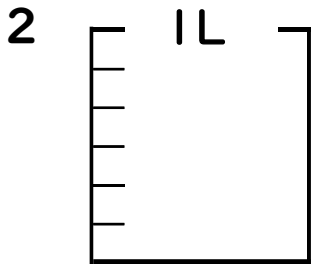
名まえ _____



① $\frac{1}{3}$ Lの 2 ぶんだけ色をぬりましょう。

② 色をぬったところのかさは何Lですか。

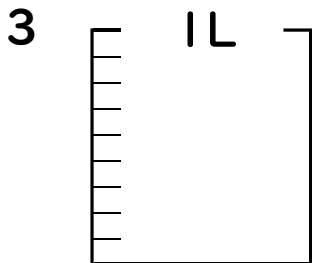
_____ L



① $\frac{1}{6}$ Lの 5 ぶんだけ色をぬりましょう。

② 色をぬったところのかさは何Lですか。

_____ L

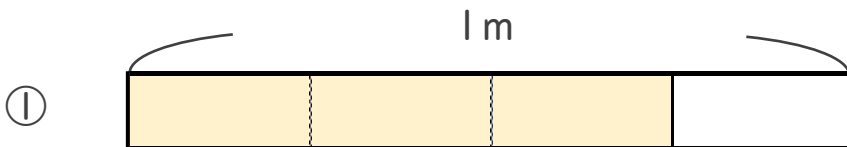


① $\frac{1}{9}$ Lの 4 ぶんだけ色をぬりましょう。

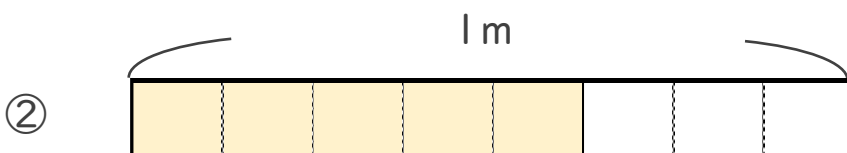
② 色をぬったところのかさは何Lですか。

_____ L

4 色をぬったところの長さは、何mでしょう。



こたえ： _____ m



こたえ： _____ m





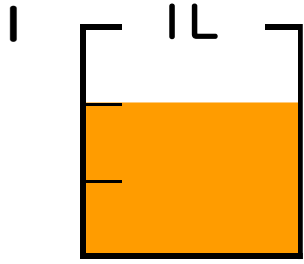
分数 5

● 分数の水のかさの色ぬり



日にち： 月 日

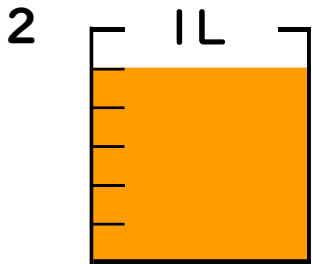
名まえ _____



① $\frac{1}{3}$ Lの 2 部分だけ色をぬりましょう。

② 色をぬったところのかさは何Lですか。

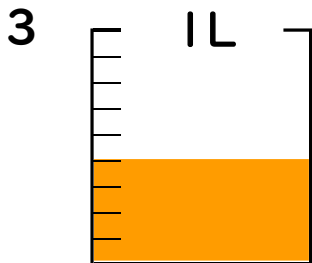
$\frac{2}{3}$ L



① $\frac{1}{6}$ Lの 5 部分だけ色をぬりましょう。

② 色をぬったところのかさは何Lですか。

$\frac{5}{6}$ L

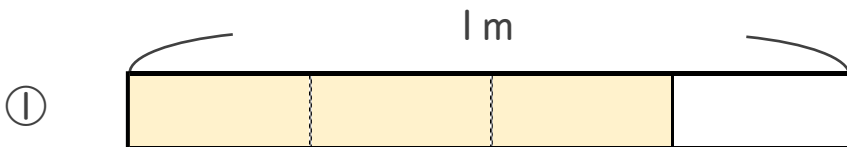


① $\frac{1}{9}$ Lの 4 部分だけ色をぬりましょう。

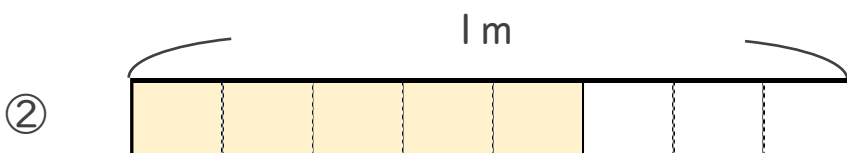
② 色をぬったところのかさは何Lですか。

$\frac{4}{9}$ L

4 色をぬったところの長さは、何mでしょう。



こたえ： $\frac{3}{4}$ m



こたえ： $\frac{5}{8}$ m

