

小数の意味と表し方⑦

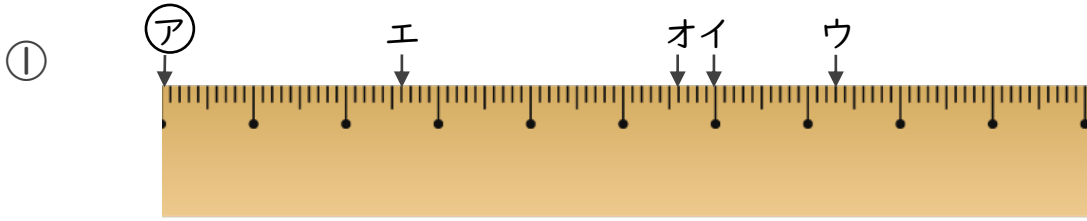
● 小数で表す1cmより短い長さ



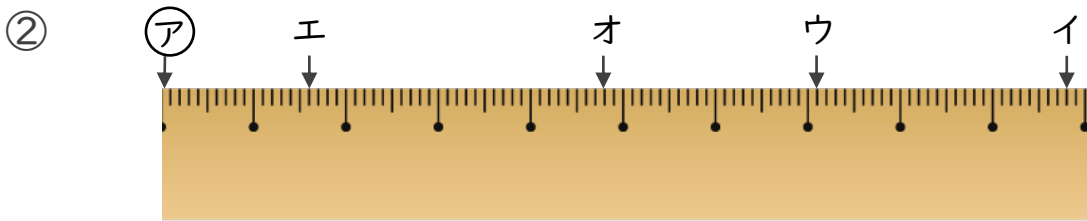
日にち： 月 日

名まえ

1 ①からイ、ウ、エ、オまでの長さは、それぞれ何cmですか。



答え ①からイ ①からウ
 ①からエ ①からオ



答え ①からイ ①からウ
 ①からエ ①からオ

2 次のかさは何Lでしょうか。小数で答えましょう。

① 1Lと、0.1Lの4こ分

答え

② 0.1Lの5こ分

答え

③ 0.1Lの8こ分

答え

④ 2Lと、0.1Lの3こ分

答え



小数の意味と表し方

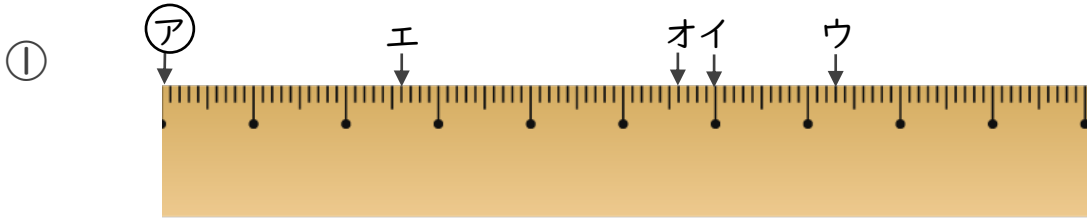
● 小数で表す1cmより短い長さ



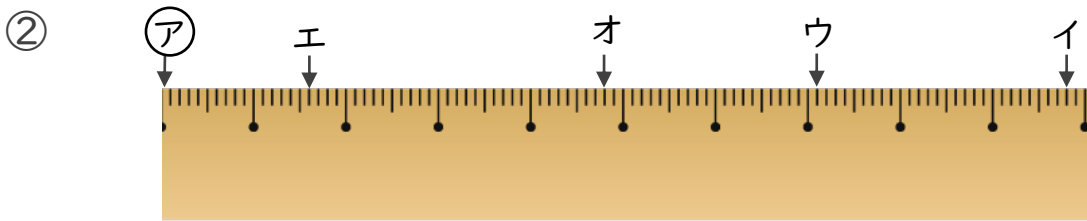
日にち： 月 日

名まえ

1 ㉞からイ、ウ、エ、オまでの長さは、それぞれ何cmですか。



答え ㉞からイ **6 cm** ㉞からウ **7.3 cm**
 ㉞からエ **2.6 cm** ㉞からオ **5.6 cm**



答え ㉞からイ **9.8 cm** ㉞からウ **7.1 cm**
 ㉞からエ **1.6 cm** ㉞からオ **4.8 cm**

2 次のかさは何Lでしょうか。小数で答えましょう。

① 1Lと、0.1Lの4こ分

答え 1.4 L

② 0.1Lの5こ分

答え 0.5 L

③ 0.1Lの8こ分

答え 0.8 L

④ 2Lと、0.1Lの3こ分

答え 2.3 L