



# 小数の意味と表し方

● 小数の位置を数直線へ書きこむ



日にち：            月            日

名まえ \_\_\_\_\_

1 次の数を表すメモリに↑を書きましょう。

① 1.7

② 1.3

③ 0.8

④ 0.5



⑤ 1.6

⑥ 0.9

⑦ 0.7

⑧ 0.2



2 下の数直線を見て↑のメモリが表す数を書きましょう。



↑  
①

↑  
②

↑  
③

① \_\_\_\_\_

② \_\_\_\_\_

③ \_\_\_\_\_



↑  
④

↑  
⑤

↑  
⑥

④ \_\_\_\_\_

⑤ \_\_\_\_\_

⑥ \_\_\_\_\_



# 小数の意味と表し方 II

● 小数の位置を数直線へ書きこむ



日にち：            月            日

名まえ \_\_\_\_\_

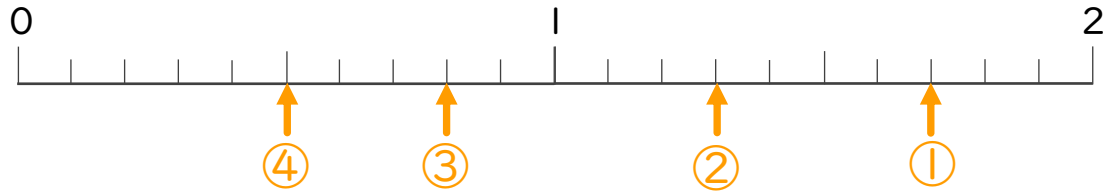
1 次の数を表すめもりに ↑ を書きましょう。

① 1.7

② 1.3

③ 0.8

④ 0.5

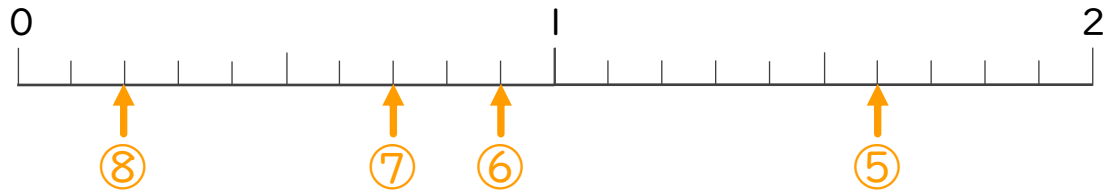


⑤ 1.6

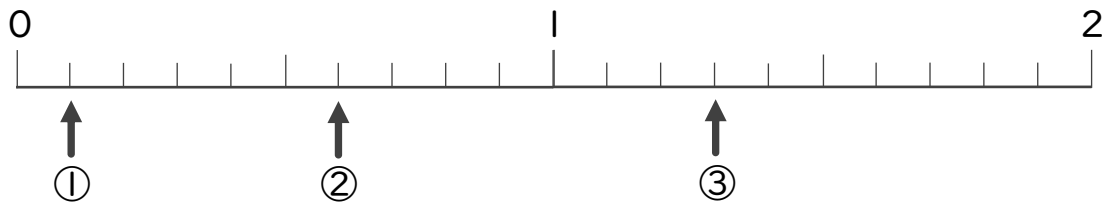
⑥ 0.9

⑦ 0.7

⑧ 0.2



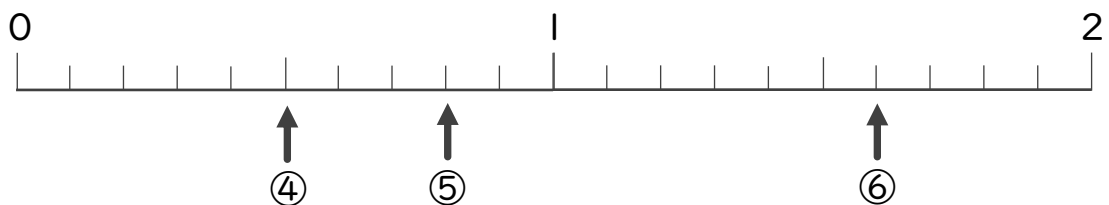
2 下の数直線を見て ↑ のめもりが表す数を書きましょう。



① 0.1

② 0.6

③ 1.3



④ 0.5

⑤ 0.8

⑥ 1.6