



小数の意味と表し方 10

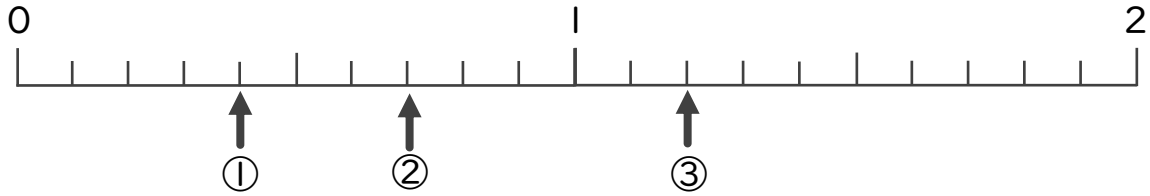
数直線の小数の読みとり



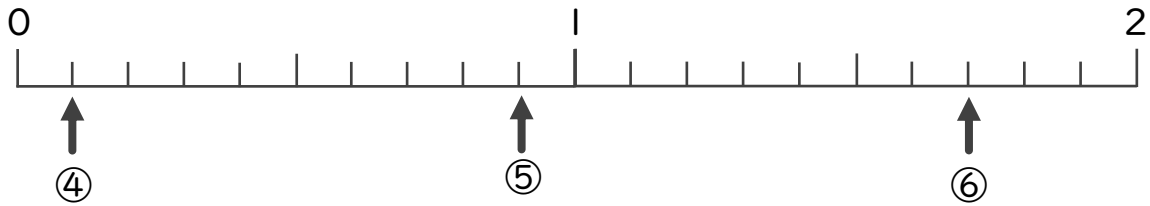
日にち： 月 日

名まえ

下の数直線を見て ↑ のめもりが表す数を書きましょう。

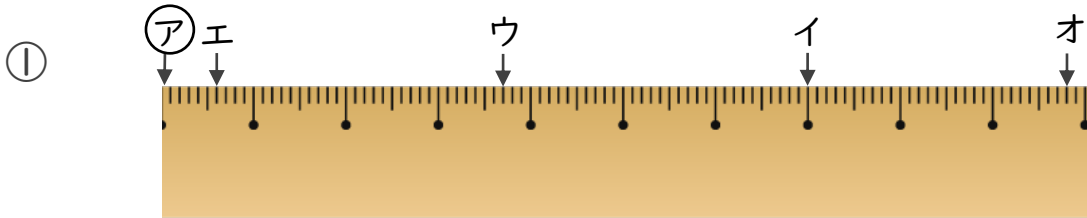


① _____ ② _____ ③ _____



④ _____ ⑤ _____ ⑥ _____

2 アからイ、ウ、エ、オまでの長さは、それぞれ何cmですか。



答え アからイ アからウ
 アからエ アからオ



小数の意味と表し方 10

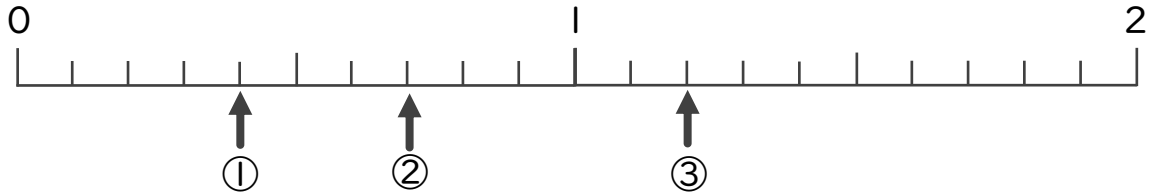
● 数直線の小数の読みとり



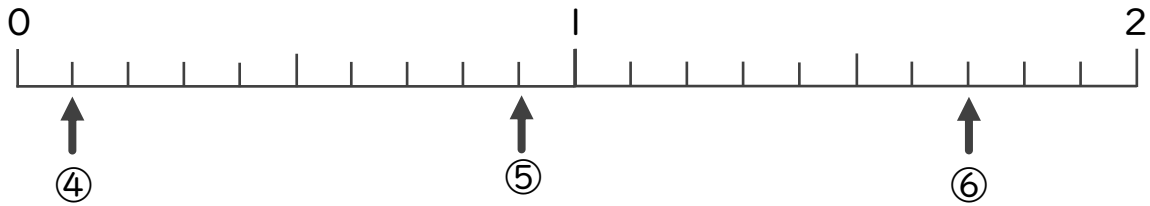
日にち： 月 日

名まえ _____

1 下の数直線を見て ↑ のめもりが表す数を書きましょう。

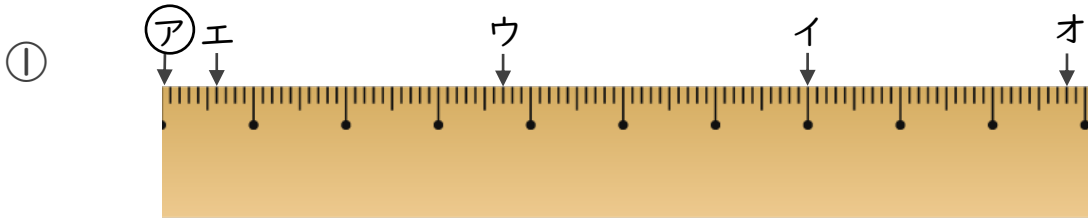


① 0.4 ② 0.7 ③ 1.2



④ 0.1 ⑤ 0.9 ⑥ 1.7

2 ㉗からイ、ウ、エ、オまでの長さは、それぞれ何cmですか。



答え ㉗からイ 7 cm ㉗からウ 3.7 cm

 ㉗からエ 0.6 cm ㉗からオ 9.8 cm