



時こくと時間の もとめかた 8

◎ 正午をはさむ計算

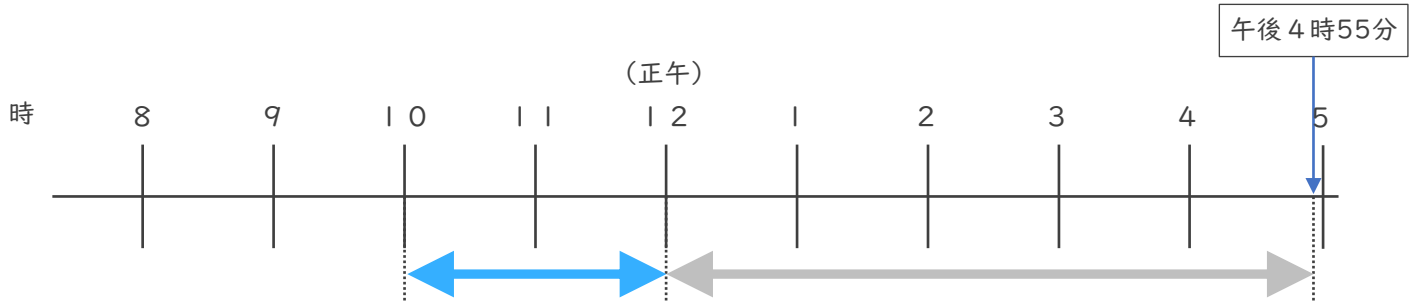


日にち： 月 日

名まえ _____

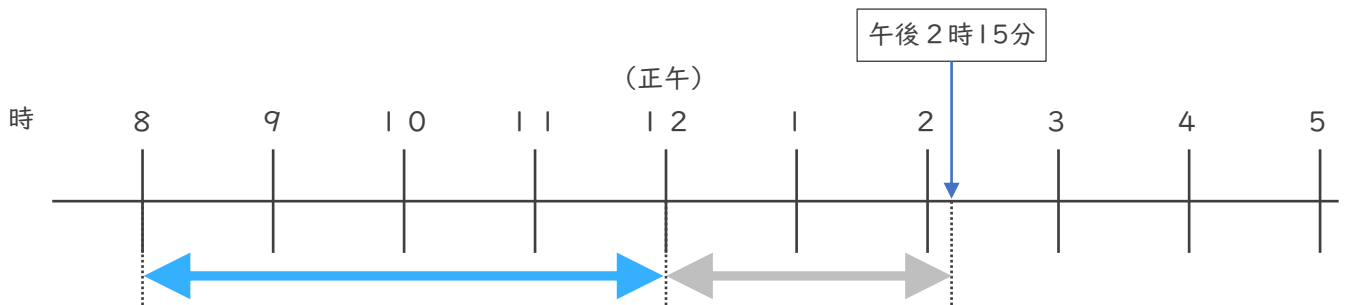
・ 次の時間をもとめましょう。

① 午前10時から午後4時55分までの時間



答え ()

② 午前8時から午後2時10分までの時間



答え ()

③ 午後1時45分から午後6時20分までの時間

| |
|-------------|
| 6 時 2 0 分 |
| — 1 時 4 5 分 |
| 時 分 |

答え ()





時こくと時間の もとめかた 8

◎ 正午をはさむ計算

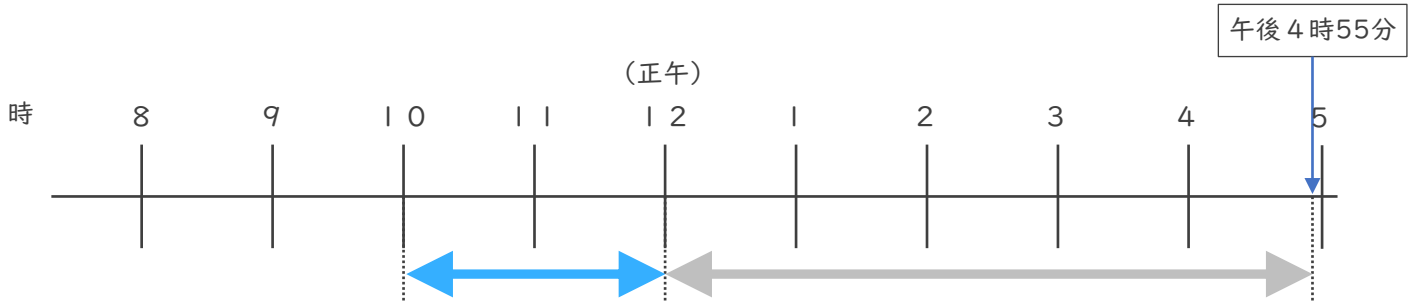


日にち： 月 日

名まえ _____

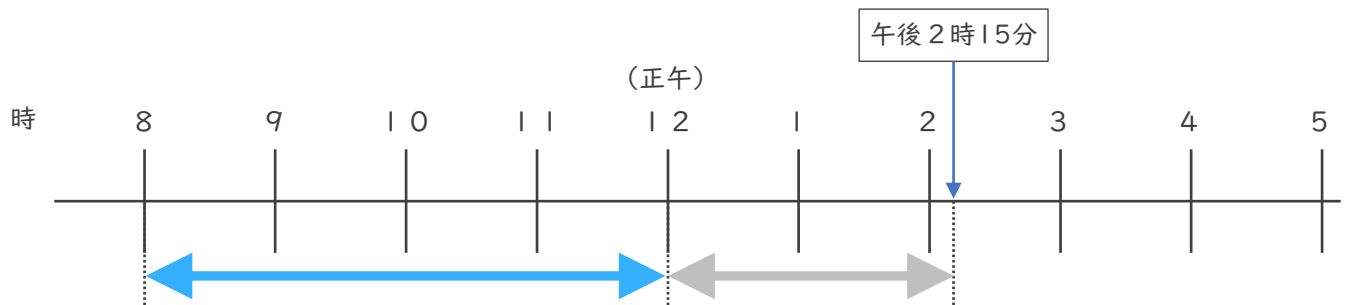
・ 次の時間をもとめましょう。

① 午前10時から午後4時55分までの時間



答え (6 時間 5 5 分)

② 午前8時から午後2時10分までの時間



答え (6 時間 1 5 分)

③ 午後1時45分から午後6時20分までの時間

| | | | |
|---|---|-----|---|
| | 5 | 8 0 | |
| - | 6 | 2 0 | 分 |
| | 1 | 4 5 | 分 |
| | 4 | 3 5 | 分 |

答え (4 時間 3 5 分)