



時こくと時間の もとめかた 8

● 正午をはさむ計算

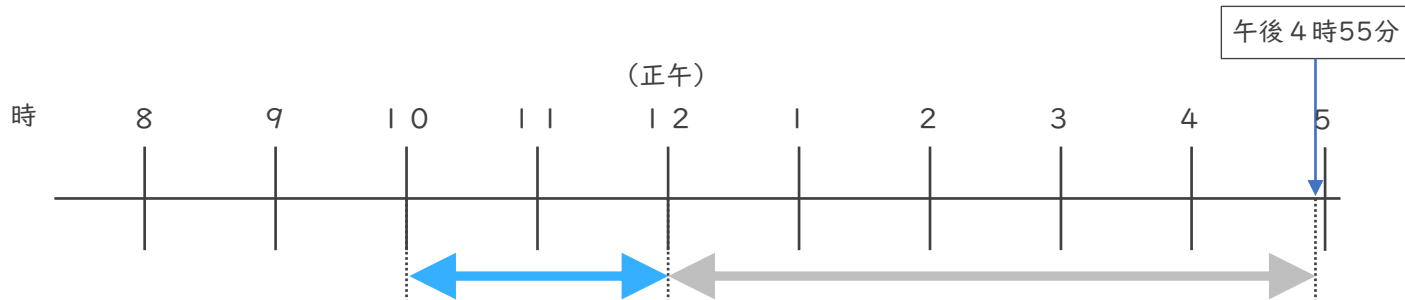


日にち： 月 日

名まえ _____

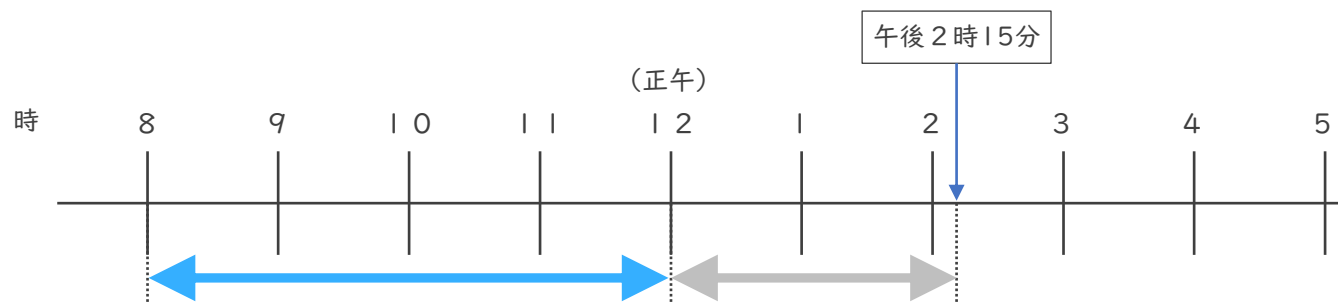
・ 次の時間をもとめましょう。

① 午前10時から午後4時55分までの時間



答え ()

② 午前8時から午後2時10分までの時間



答え ()

③ 午後1時45分から午後6時20分までの時間

	6 時 2 0 分
—	1 時 4 5 分
	時 分

答え ()





時こくと時間の もとめかた 8

◎ 正午をはさむ計算

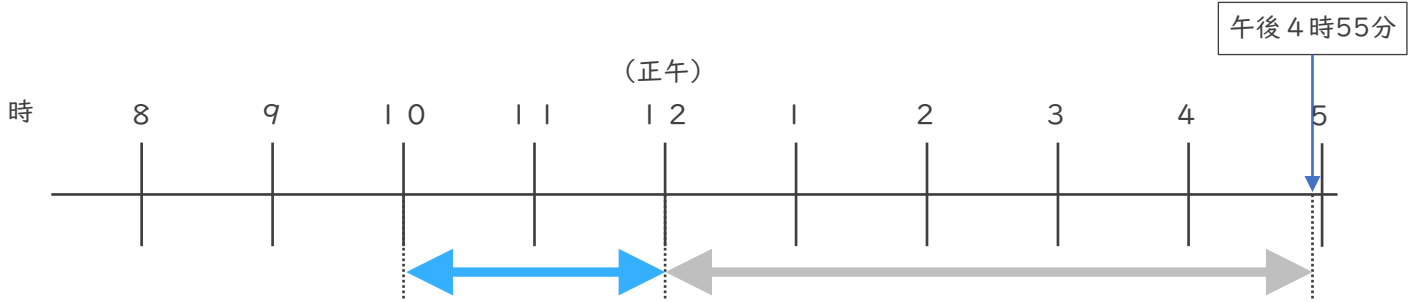


日にち： 月 日

名まえ _____

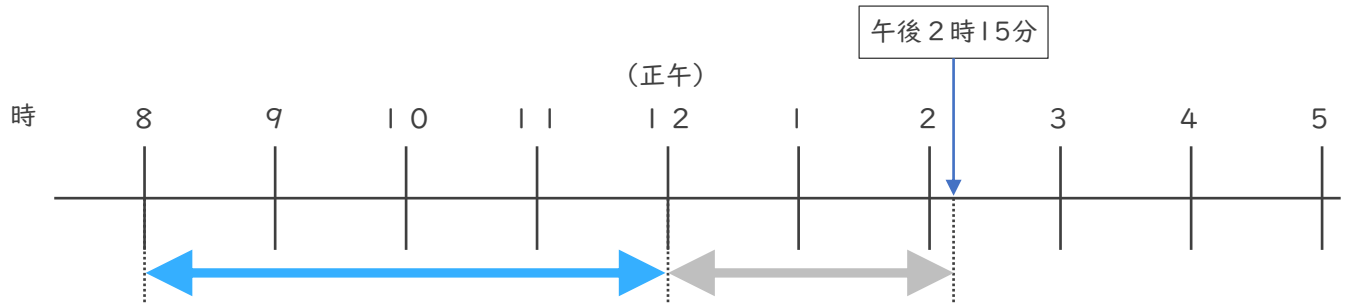
・ 次の時間をもとめましょう。

① 午前10時から午後4時55分までの時間



答え (6 時間 5 5 分)

② 午前8時から午後2時10分までの時間



答え (6 時間 1 5 分)

③ 午後1時45分から午後6時20分までの時間

	5	80	
-	6	20	分
	1	45	分
	4	35	分

答え (4 時間 3 5 分)

