



小数の意味と表し方 4

◎ 水のかさをぬる

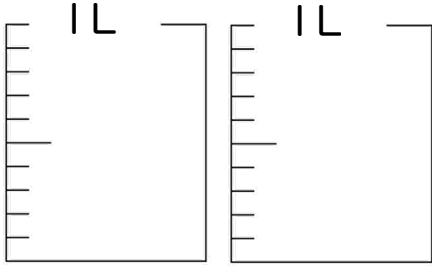


日にち： 月 日

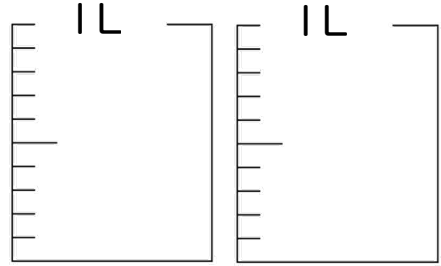
名まえ _____

1 水のかさだけ色を塗りましょう

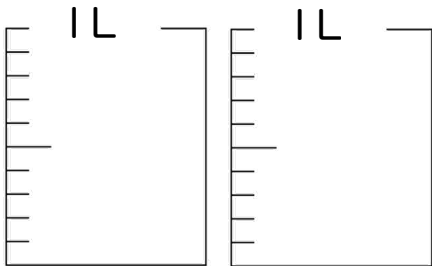
① 2 L



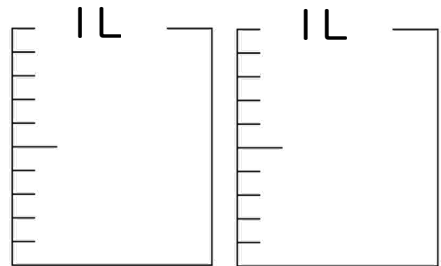
③ 1.1 L



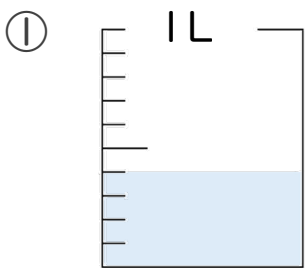
② 0.8 L



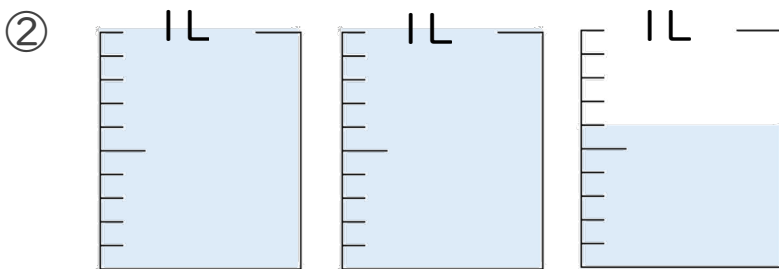
④ 1.5 L



2 水のかさは、何Lでしょう。



答え _____ L



答え _____ L





小数の意味と表し方 4

◎ 水のかさをぬる

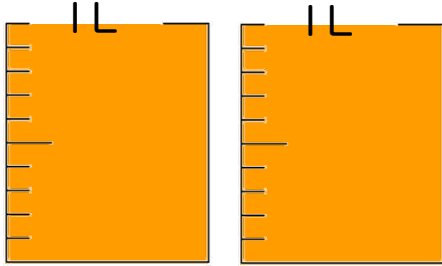


日にち： 月 日

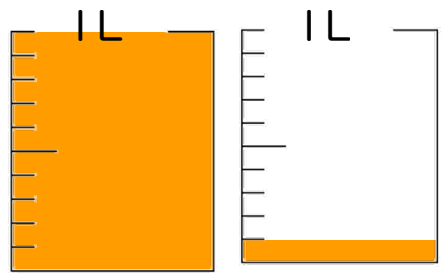
名まえ _____

1 水のかさだけ色を塗りましょう

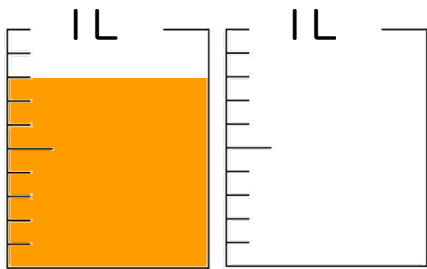
① 2 L



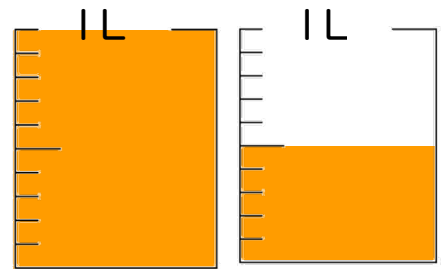
③ 1.1 L



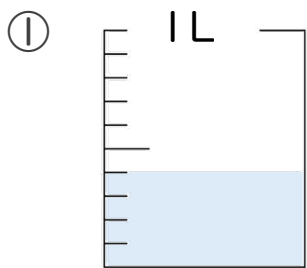
② 0.8 L



④ 1.5 L



2 水のかさは、何Lでしょう。



答え 0.4 L



答え 2.6 L

