



三角形と角 10

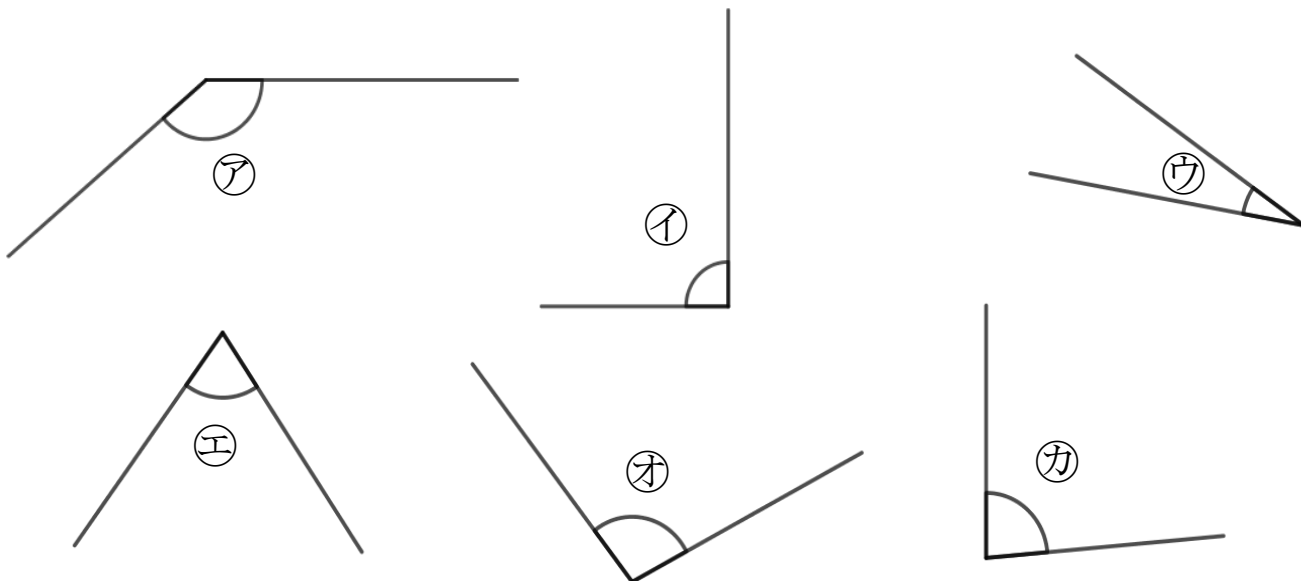
● 角を大きい
じゅんにならべる



日にち： 月 日

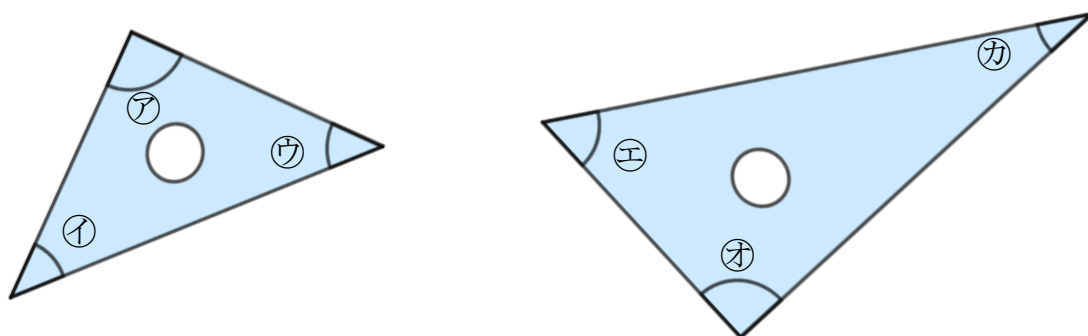
名まえ _____

1 次の角の大きさをくらべて、小さいじゅんにいしましょう。



答え： → → → → →

2 三角じょうぎの、かどの形を調べましょう。



① 直角になっているかどは、どれですか。

答え：

② いちばんとがってるかどは、どれですか。

答え：



三角形と角 10

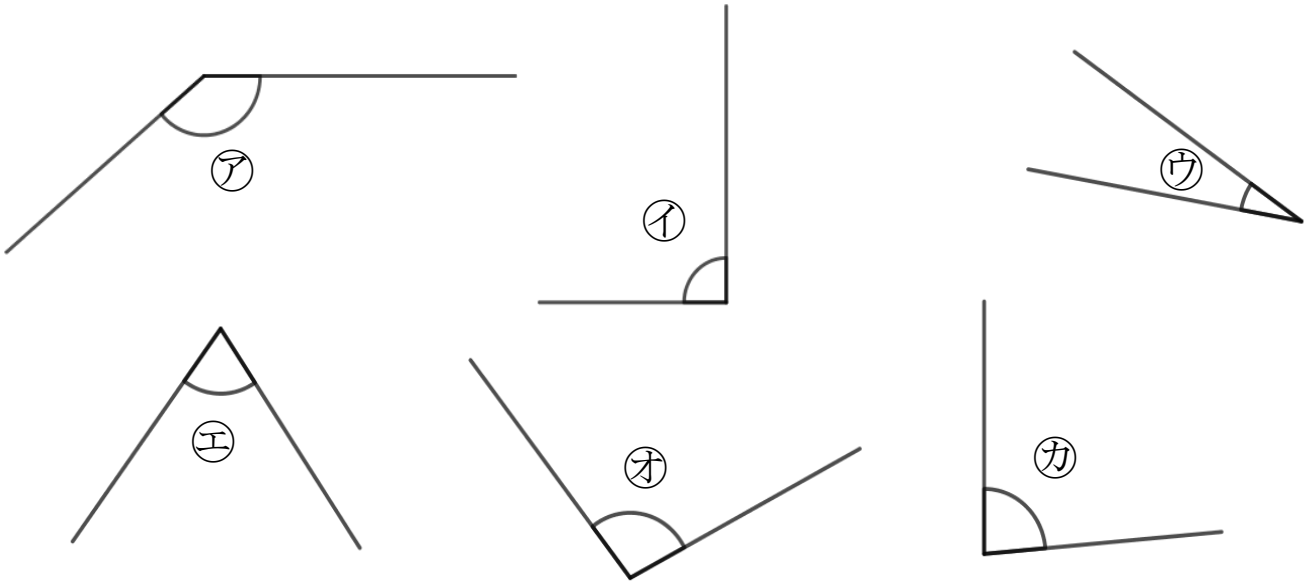
● 角を大きい
じゅんにならべる



日にち： 月 日

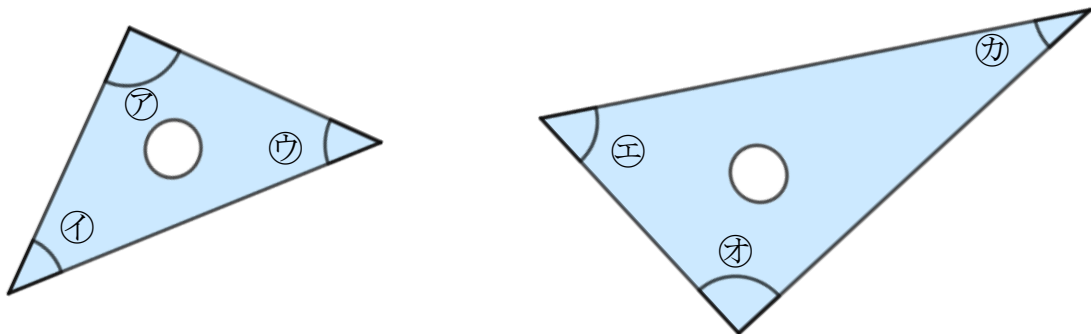
名まえ _____

1 次の角の大きさをくらべて、小さいじゅんにいしましょう。



答え： ウ → エ → カ → イ → オ → ア

2 三角じょうぎの、かどの形を調べましょう。



① 直角になっているかどは、どれですか。

答え： ア, オ

② いちばんとがってるかどは、どれですか。

答え： カ